




分数 5

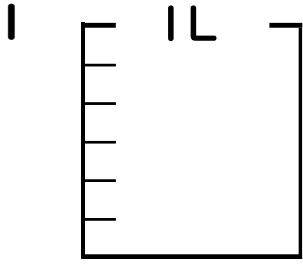
● 分数の水のかさの色ぬり

15

目指せ80点!

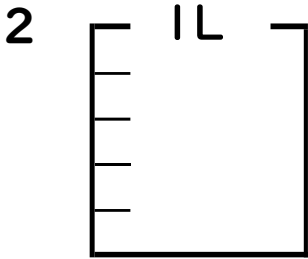


名まえ _____



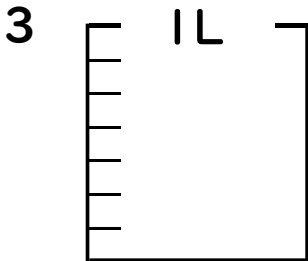
① $\frac{1}{6}$ Lの 5 こ分だけ色をぬりましょう。 (各10点)

② 色をぬったところのかさは何Lですか。 _____ L



① $\frac{1}{5}$ Lの 2 こ分だけ色をぬりましょう。 (各10点)

② 色をぬったところのかさは何Lですか。 _____ L



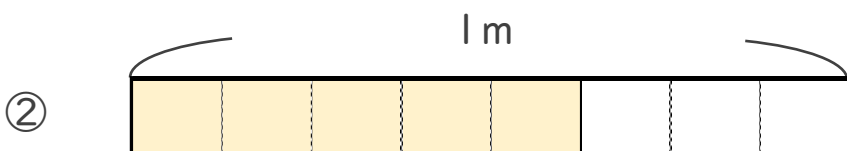
① $\frac{1}{7}$ Lの 4 こ分だけ色をぬりましょう。 (各10点)

② 色をぬったところのかさは何Lですか。 _____ L

4 色をぬったところの長さは、何mでしょう。 (各20点)



こたえ： _____ m



こたえ： _____ m






分数 5

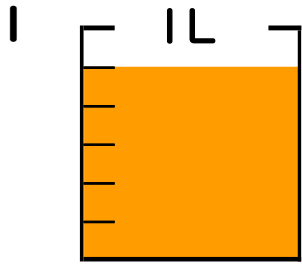
● 分数の水のかさの色ぬり

15

目指せ80点!

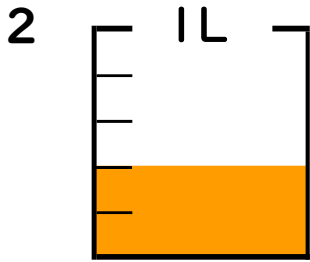


名まえ _____



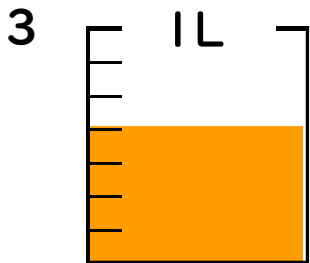
① $\frac{1}{6}$ Lの 5 ぶんだけ色をぬりましょう。 (各10点)

② 色をぬったところのかさは何Lですか。 $\frac{5}{6}$ L



① $\frac{1}{5}$ Lの 2 ぶんだけ色をぬりましょう。 (各10点)

② 色をぬったところのかさは何Lですか。 $\frac{2}{5}$ L



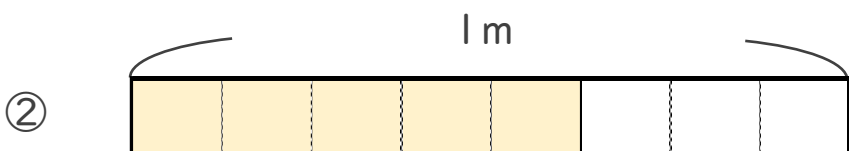
① $\frac{1}{7}$ Lの 4 ぶんだけ色をぬりましょう。 (各10点)

② 色をぬったところのかさは何Lですか。 $\frac{4}{7}$ L

4 色をぬったところの長さは、何mでしょう。 (各20点)



こたえ： $\frac{2}{4}$ m



こたえ： $\frac{5}{8}$ m

