



分数 4

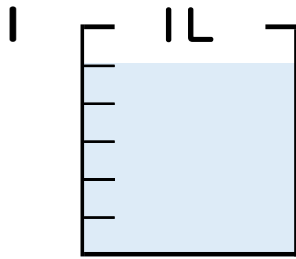
● 分数の水のかさの読み取り

15

目指せ80点!

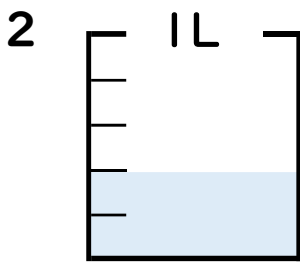


名まえ _____



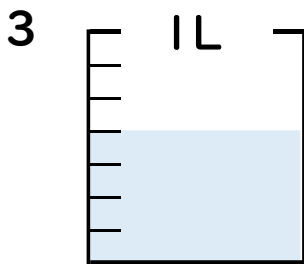
① 図の水のかさは1めもりの何こ分ですか? _____ 半分

② 水のかさは、何^{リットル}Lですか? (各5点) _____ L



① 図の水のかさは1めもりの何こ分ですか? _____ 半分

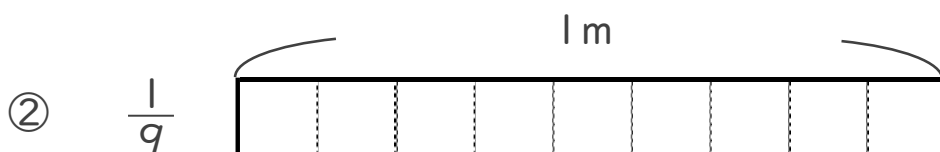
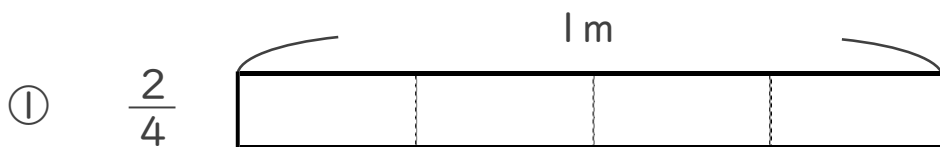
② 水のかさは、何^{リットル}Lですか? (各5点) _____ L



① 図の水のかさは1めもりの何こ分ですか? _____ 半分

② 水のかさは、何^{リットル}Lですか? (各5点) _____ L

4 次の長さの分だけ色をぬりましょう。(各20点)





分数 4

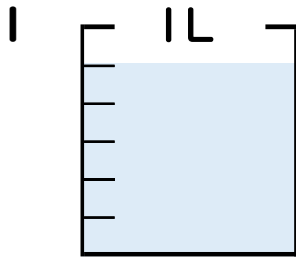
● 分数の水のかさの読み取り

15

目指せ80点!

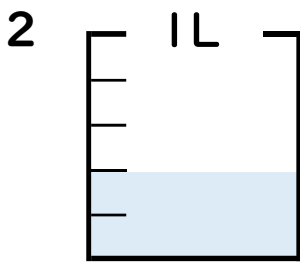


名まえ _____



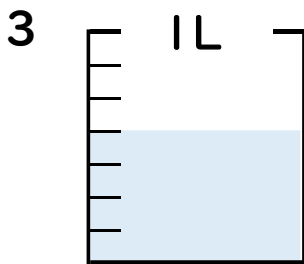
① 図の水のかさは1めもりの何こ分ですか? 5 共分

② 水のかさは、何^{リットル}Lですか? (各5点) $\frac{5}{6}$ L



① 図の水のかさは1めもりの何こ分ですか? 2 共分

② 水のかさは、何^{リットル}Lですか? (各5点) $\frac{2}{5}$ L



① 図の水のかさは1めもりの何こ分ですか? 4 共分

② 水のかさは、何^{リットル}Lですか? (各5点) $\frac{4}{7}$ L

4 次の長さの分だけ色をぬりましょう。(各20点)

① $\frac{2}{4}$



② $\frac{1}{9}$

