



分数 3

● 分数の長さの色ぬり

15

目指せ80点!



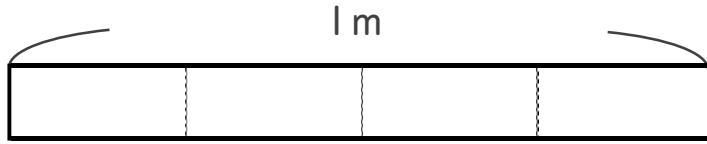
名まえ _____

1 次の長さの分だけ色をぬりましょう。

(各20点)

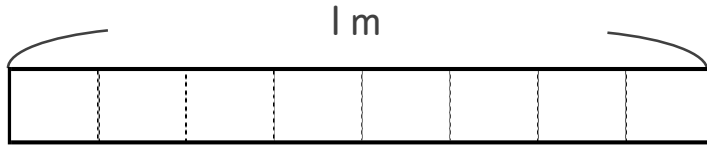
①

$\frac{2}{4}$



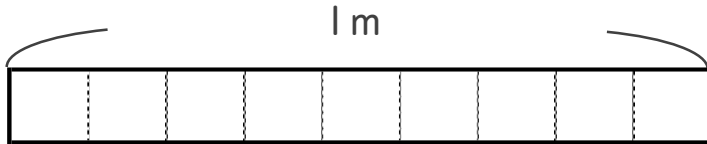
②

$\frac{5}{8}$



③

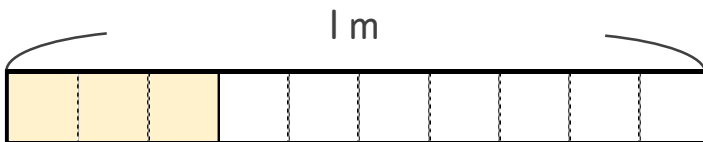
$\frac{1}{9}$



2 色をぬったところの長さは、何mでしょう。

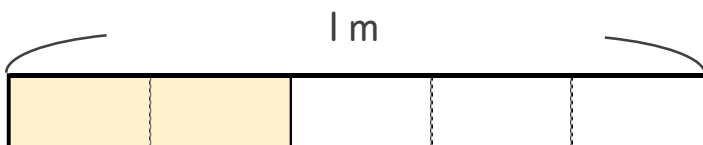
(各20点)

①



こたえ： _____ m

②



こたえ： _____ m






分数 3

● 分数の長さの色ぬり

15

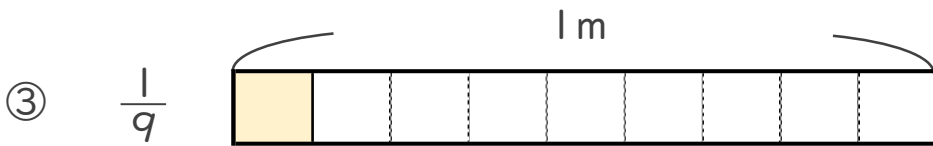
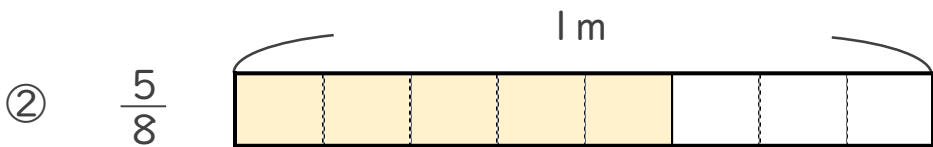
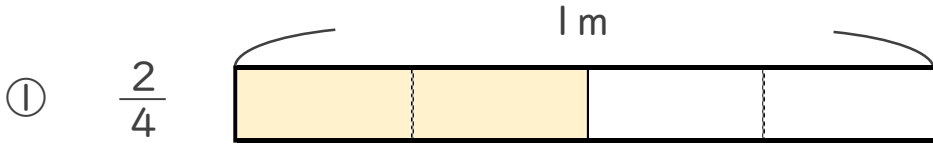
目指せ80点!



名まえ _____

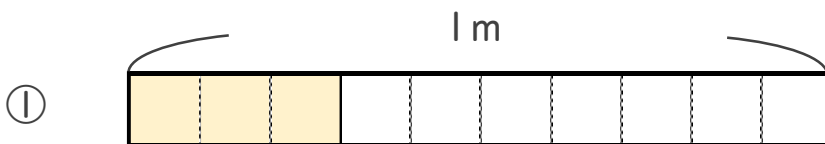
1 次の長さの分だけ色をぬりましょう。

(各20点)



2 色をぬったところの長さは、何mでしょう。

(各20点)



こたえ： $\frac{3}{10}$ m



こたえ： $\frac{2}{5}$ m