



分数 2

● 分数の長さの読み取り

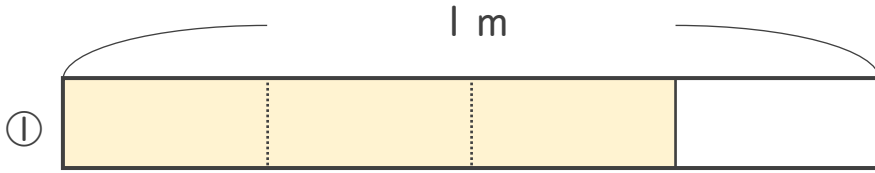
15

めざせ80点!

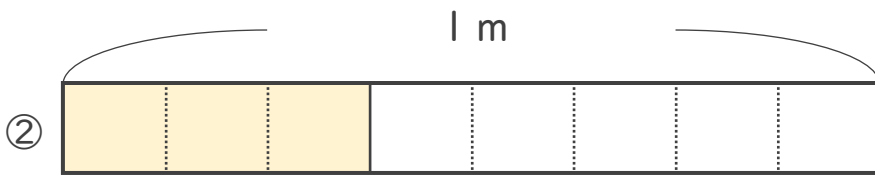


名まえ _____

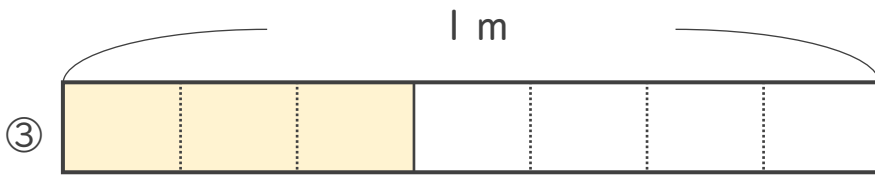
・ 色をぬったところの長さは、何^{いろ}mでしよう。^{なが} (各^{なん}20点)



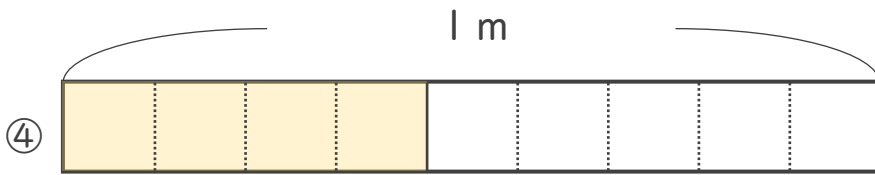
こたえ： _____ m



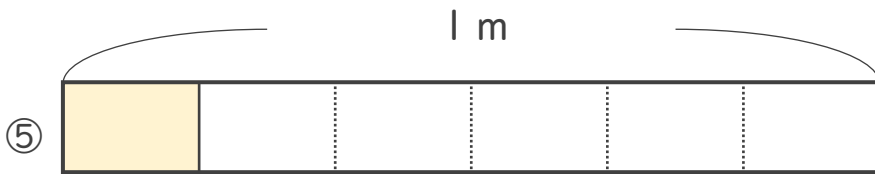
こたえ： _____ m



こたえ： _____ m



こたえ： _____ m



こたえ： _____ m





分数 2

● 分数の長さの読み取り

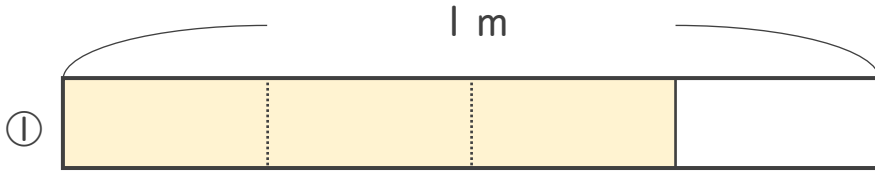
15

めざせ80点!

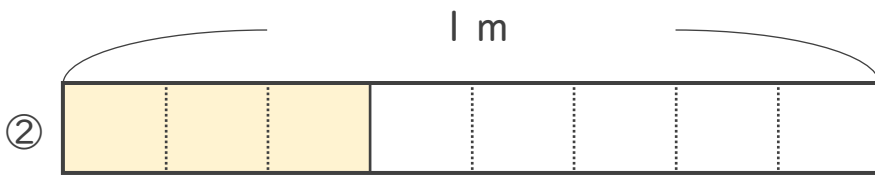


名まえ _____

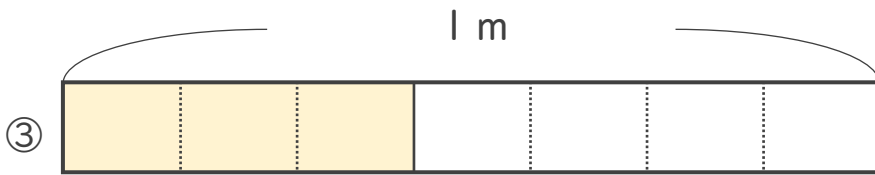
・ 色をぬったところの長さは、何^いmでしよう。^{なが} (各^{なん}20点)



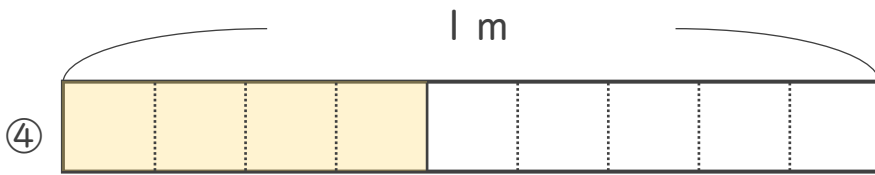
こたえ： $\frac{3}{4}$ m



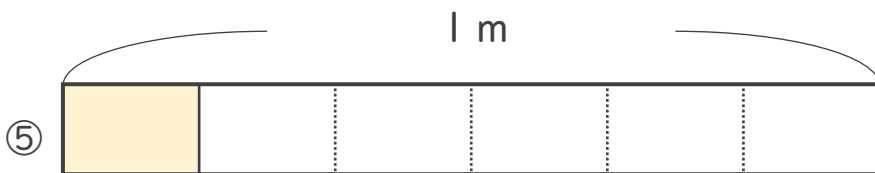
こたえ： $\frac{3}{8}$ m



こたえ： $\frac{3}{7}$ m



こたえ： $\frac{4}{9}$ m



こたえ： $\frac{1}{6}$ m

