




## 円と球 4

● 半径の長さから円をかく

15

目指せ100点!



名まえ \_\_\_\_\_

・コンパスを使って、次の円をかきましょう。

① 半径が5cm5mmの円 (50点)

•

② 半径が2cmの円 (50点)

•




## 円と球 4

● 半径の長さから円をかく

15

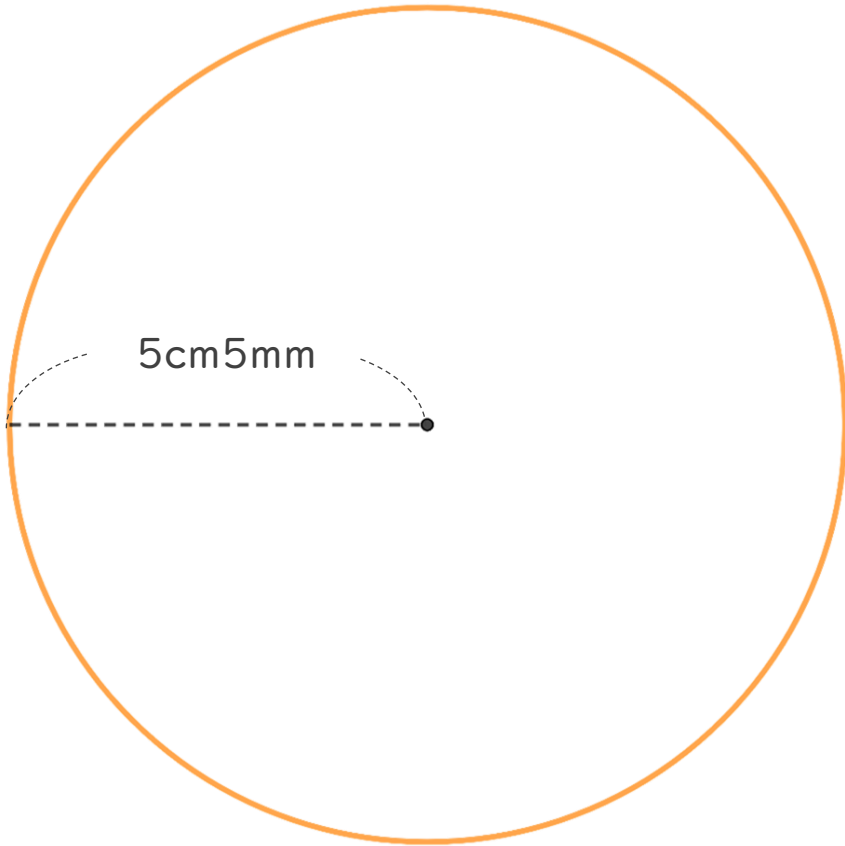
目指せ100点!



名まえ \_\_\_\_\_

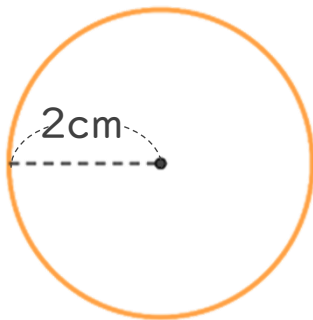
・コンパスを使って、次の円をかきましょう。

① 半径が5cm5mmの円 (50点)



かいた円の直径が  
11cmになっているか  
チェックしよう!

② 半径が2cmの円 (50点)



かいた円の直径が  
4cmになっているか  
チェックしよう!

