




円と球 4

● 半径の長さから円をかく

15

目指せ100点!



名まえ _____

・コンパスを使って、次の円をかきましょう。

① 半径が5 cm 5 mmの円 (50点)

•

② 半径が2 cmの円 (50点)

•




円と球 4

● 半径の長さから円をかく

15

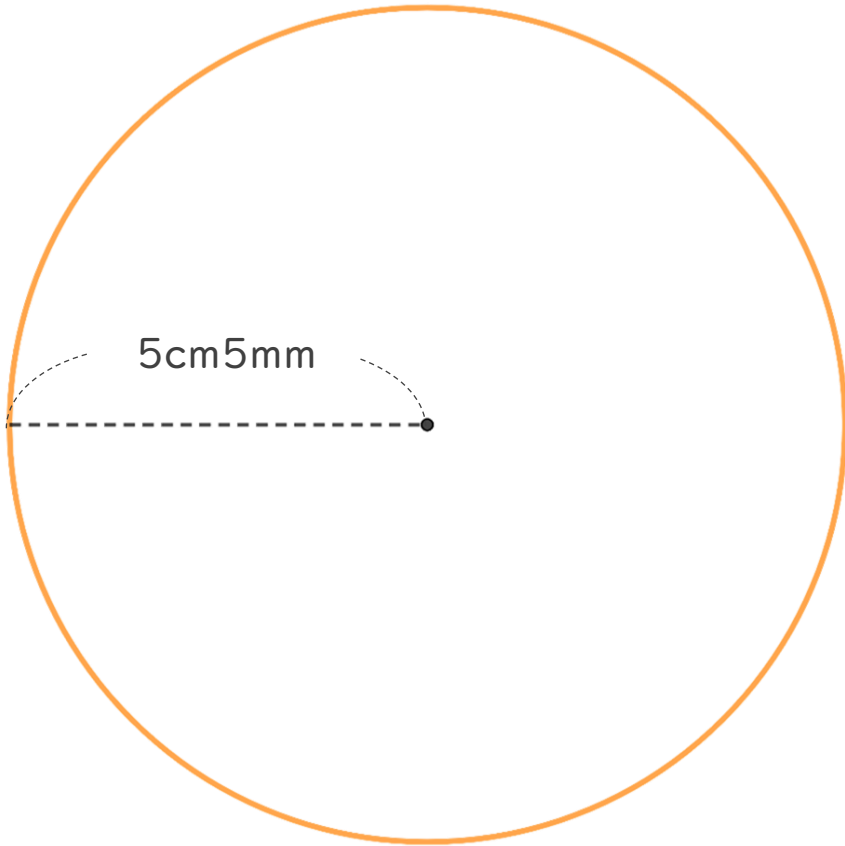
目指せ100点!



名まえ

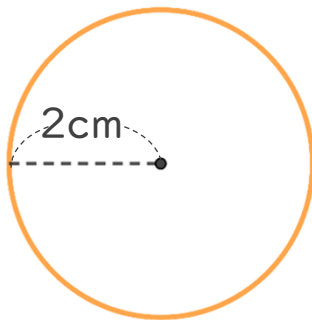
・コンパスを使って、次の円をかきましょう。

① 半径が5 cm 5 mmの円 (50点)



かいた円の直径が
11cmになっているか
チェックしよう!

② 半径が2 cmの円 (50点)



かいた円の直径が
4cmになっているか
チェックしよう!

