


# 小数の意味と表し方

● 小数で表す1cmより短い長さ

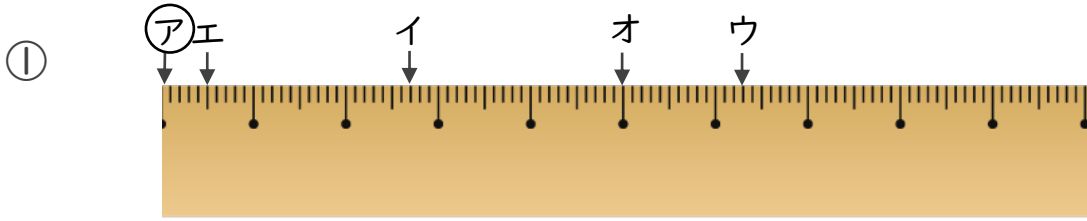
15

目指せ80点!

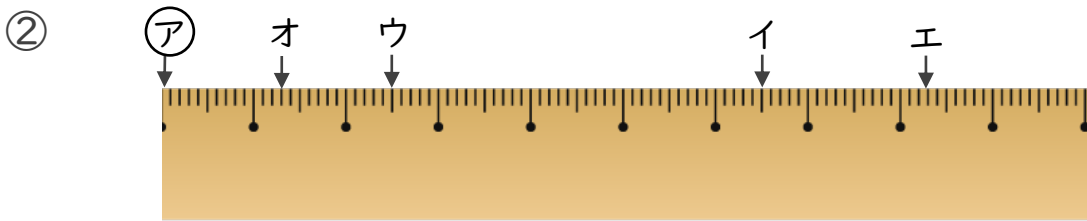


名まえ

1 ㉞からイ、ウ、エ、オまでの長さは、それぞれ何cmですか。(各10点)



答え ㉞からイ **2.7 cm**      ㉞からウ **6.3 cm**  
 ㉞からエ **0.5 cm**      ㉞からオ **5 cm**



答え ㉞からイ **6.5 cm**      ㉞からウ **2.5 cm**  
 ㉞からエ **8.3 cm**      ㉞からオ **1.3 cm**

2 次のかさは何Lでしょうか。小数で答えましょう。(各10点)

① 1Lと、0.1Lの6こ分

答え 1.6 L

② 0.1Lの8こ分

答え 0.8 L

③ 0.1Lの3こ分

答え 0.3 L

④ 3Lと、0.1Lの7こ分

答え 3.7 L