




# 小数の意味と表し方7

① 小数で表す1cmより短い長さ

15

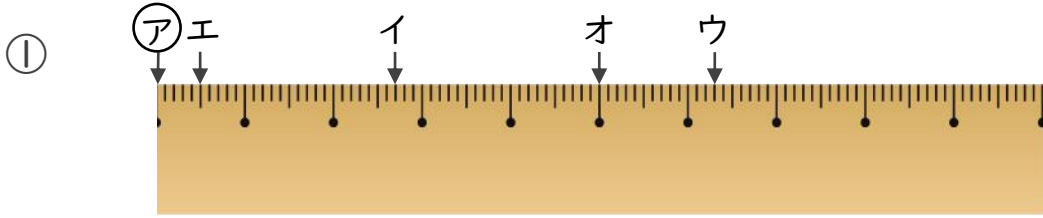
目指せ80点!



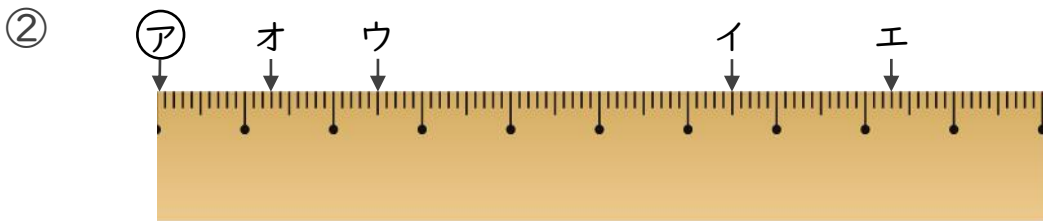
名まえ \_\_\_\_\_

1 ①からイ、ウ、エ、オまでの長さは、それぞれ何cmですか。

(各10点)



- 答え
- ①からイ
  - ①からウ
  - ①からエ
  - ①からオ
- 



- 答え
- ①からイ
  - ①からウ
  - ①からエ
  - ①からオ
- 

2 次のかさは何Lでしょうか。小数で答えましょう。(各5点)

① 1Lと、0.1Lの6こ分

答え \_\_\_\_\_

② 0.1Lの8こ分

答え \_\_\_\_\_

③ 0.1Lの3こ分

答え \_\_\_\_\_

④ 3Lと、0.1Lの7こ分

答え \_\_\_\_\_



# 小数の意味と表し方7

① 小数で表す1cmより短い長さ

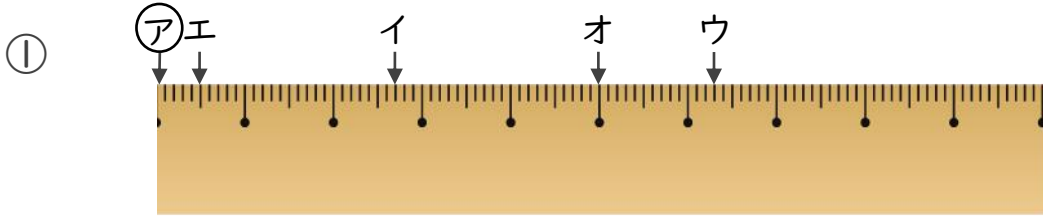
15

目指せ80点!

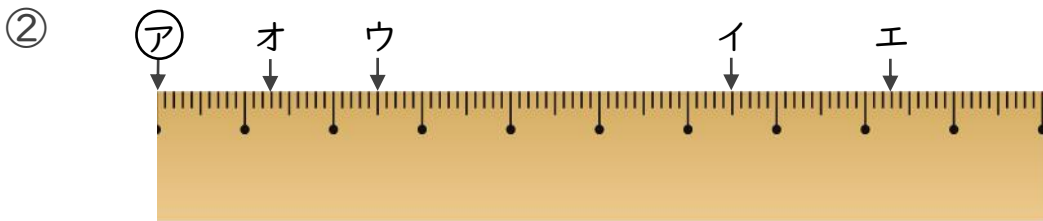


名まえ \_\_\_\_\_

1 ㊦からイ、ウ、エ、オまでの長さは、それぞれ何cmですか。  
(各10点)



答え ㊦からイ **2.7 cm**      ㊦からウ **6.3 cm**  
 ㊦からエ **0.5 cm**      ㊦からオ **5 cm**



答え ㊦からイ **6.5 cm**      ㊦からウ **2.5 cm**  
 ㊦からエ **8.3 cm**      ㊦からオ **1.3 cm**

2 次のかさは何Lでしょうか。小数で答えましょう。(各5点)

① 1Lと、0.1Lの6こ分

答え **1.6 L**

② 0.1Lの8こ分

答え **0.8 L**

③ 0.1Lの3こ分

答え **0.3 L**

④ 3Lと、0.1Lの7こ分

答え **3.7 L**