



小数の意味と表し方 11

● 小数の位置を数直線へ書きこむ

15

目指せ80点!



名まえ _____

1 次の数を表すメモリに↑を書きましょう。(各10点)

① 0.1

② 1.6

③ 0.9



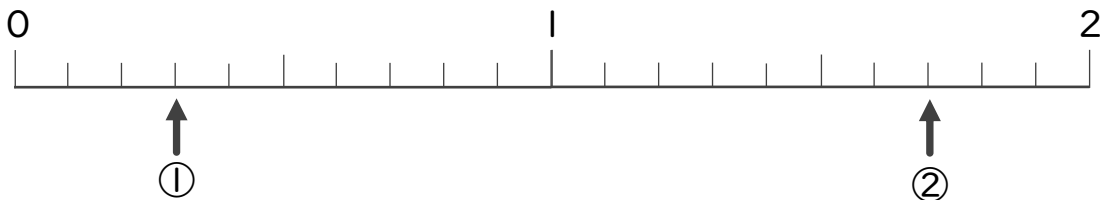
④ 0.5

⑤ 1.8

⑥ 1.2

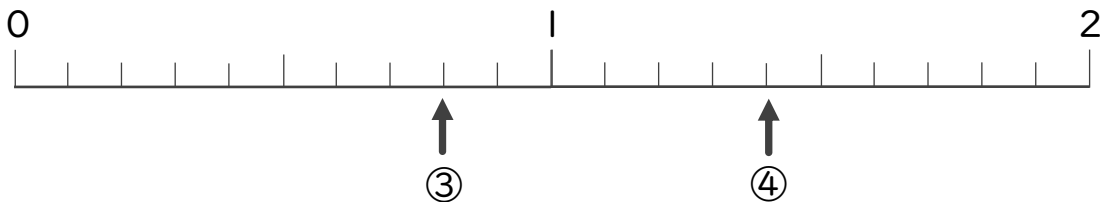


2 下の数直線を見て↑のメモリが表す数を書きましょう。(各10点)



① _____

② _____



③ _____

④ _____



小数の意味と表し方 11

● 小数の位置を数直線へ書きこむ

15

目指せ80点!



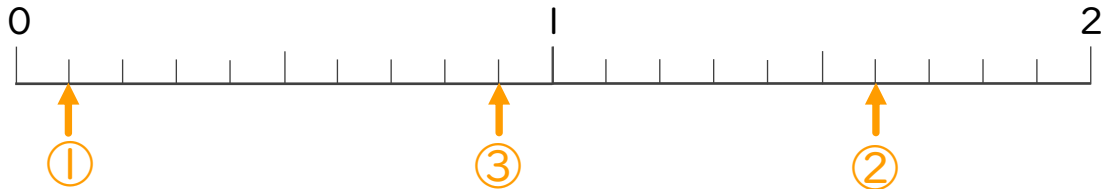
名まえ _____

1 次の数を表すメモリに↑を書きましょう。(各10点)

① 0.1

② 1.6

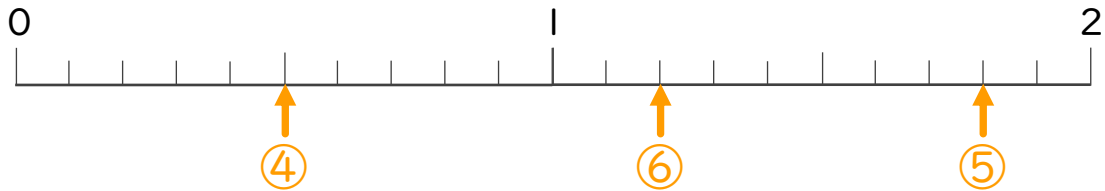
③ 0.9



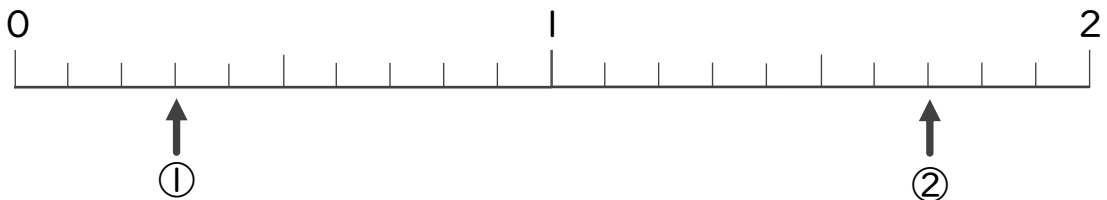
④ 0.5

⑤ 1.8

⑥ 1.2

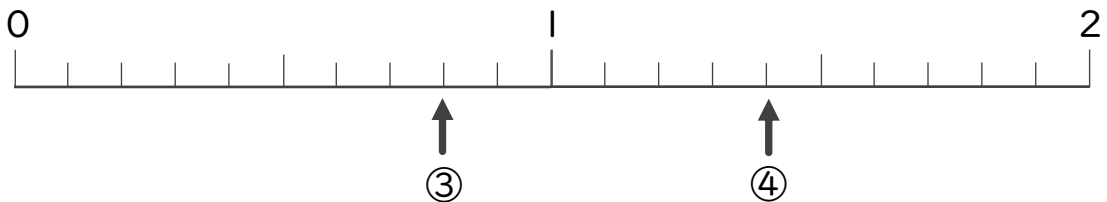


2 下の数直線を見て↑のメモリが表す数を書きましょう。(各10点)



① 0.3

② 1.7



③ 0.8

④ 1.4