




# 小数の意味と表し方 10

● 数直線の小数の読みとり

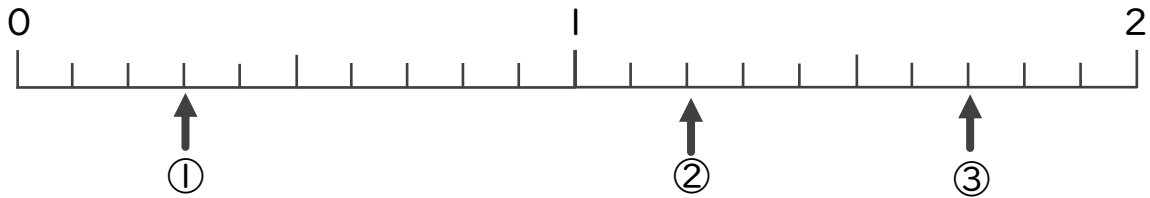
# 15

目指せ80点!

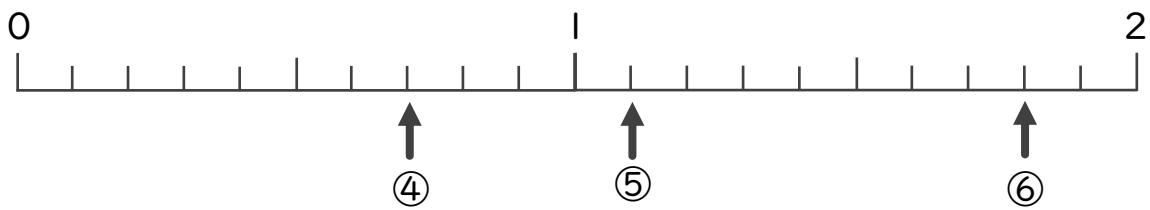


## 名まえ

1 下の数直線を見て ↑ のめもりが表す数を書きましょう。(各10点)




① \_\_\_\_\_                      ② \_\_\_\_\_                      ③ \_\_\_\_\_




④ \_\_\_\_\_                      ⑤ \_\_\_\_\_                      ⑥ \_\_\_\_\_

2 ㉠からイ、ウ、エ、オまでの長さは、それぞれ何cmですか。

(各10点)



答え    ㉠からイ                      ㉠からウ  
          ㉠からエ                      ㉠からオ




# 小数の意味と表し方 10

● 数直線の小数の読みとり

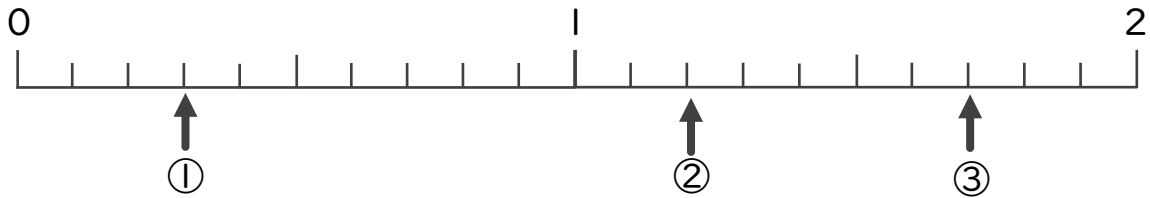
# 15

目指せ80点!



## 名まえ

1 下の数直線を見て ↑ のめもりが表す数を書きましょう。(各10点)



①

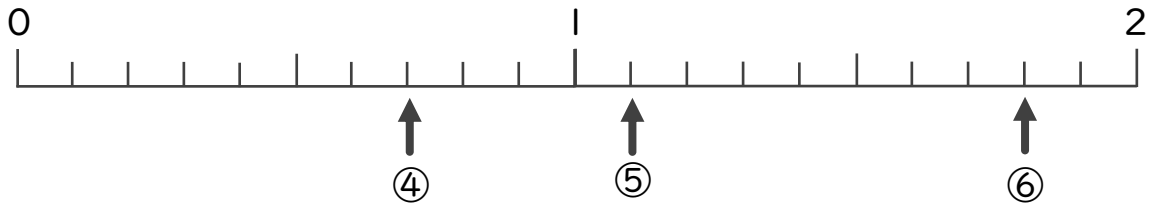
0.3

②

1.2

③

1.7



④

0.7

⑤


1.1

⑥

1.8

2 ㉠からイ、ウ、エ、オまでの長さは、それぞれ何cmですか。

(各10点)



①

答え

㉠

からイ

2.1 cm

㉠

からウ

6.1 cm

㉠

からエ

0.9 cm

㉠

からオ

8.4 cm

