



時こくと時間の もとめかた 2

15

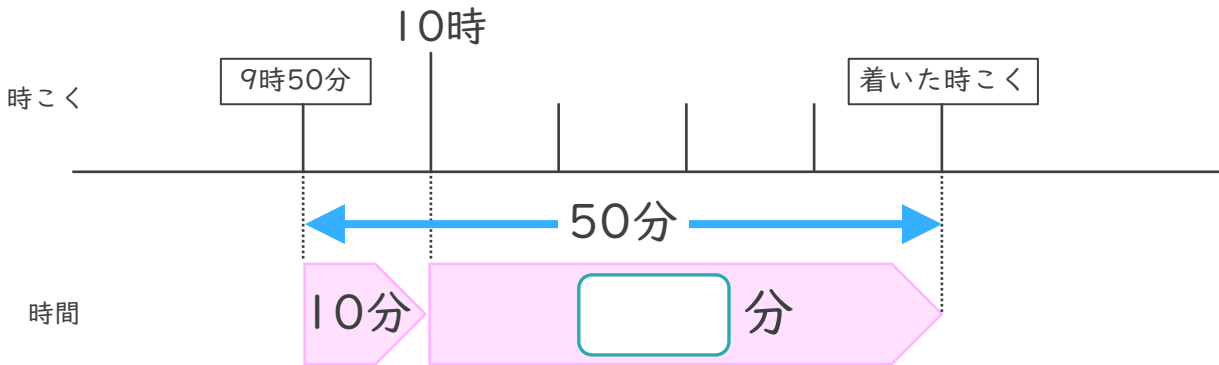
● 時こくをもとめる (数直線)

めざせ75点!



名まえ _____

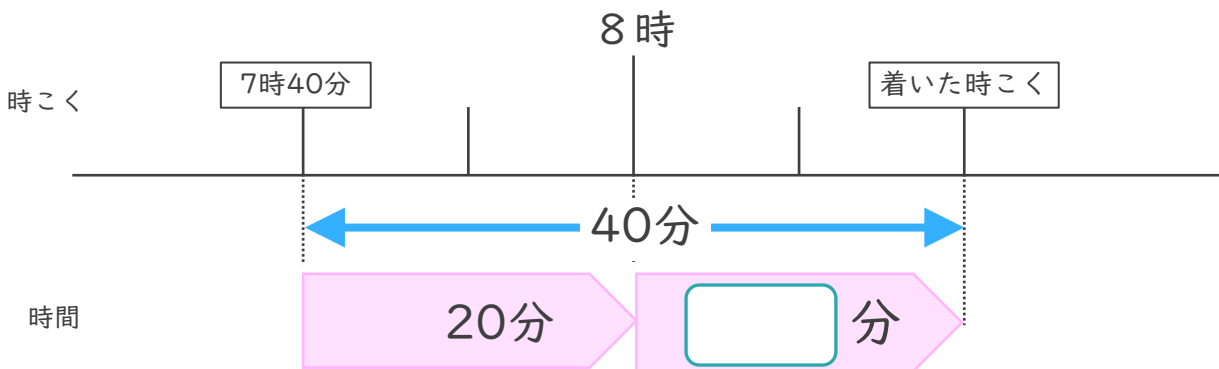
1 家を午前9時50分に出て、50分歩くと公園に着きました。



- ① にあてはまる数を書きましょう。(25点)
- ② 公園に着いた時こくは何時何分ですか。(25点)

答え ()

2 家を午前7時40分に出て、40分歩くと病院に着きました。



- ① にあてはまる数を書きましょう。(25点)
- ② 病院に着いた時こくは何時何分ですか。(25点)

答え ()





時こくと時間の もとめかた 2

15

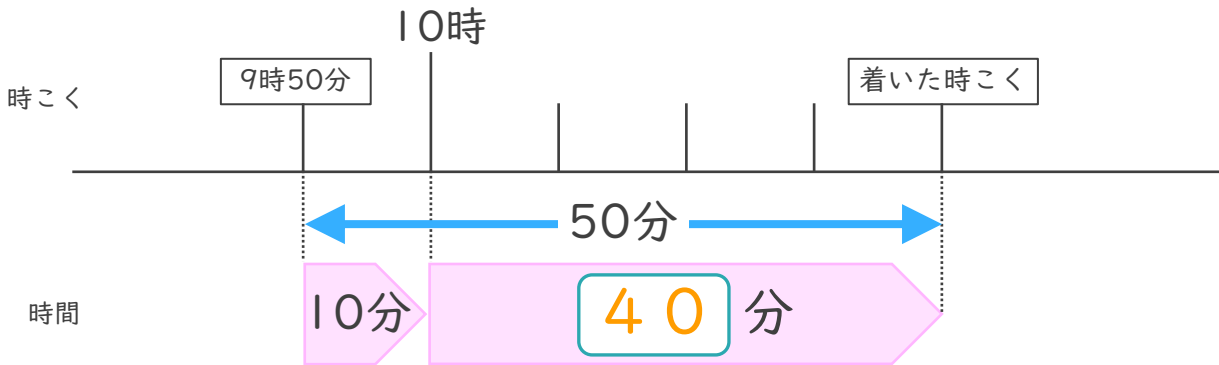
● 時こくをもとめる (数直線)

めざせ75点!



名まえ _____

1 家を午前9時50分に出て、50分歩くと公園に着きました。

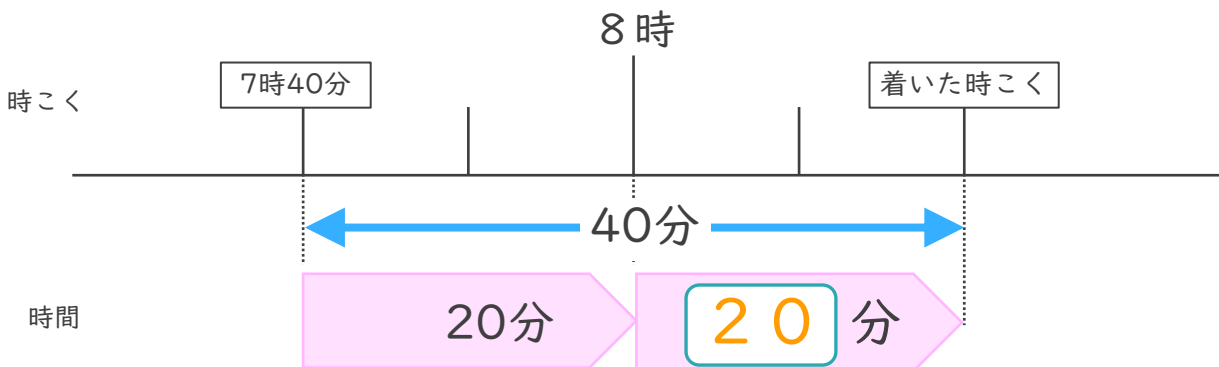


① にあてはまる数を書きましょう。(25点)

② 公園に着いた時こくは何時何分ですか。(25点)

答え (午前10時40分)

2 家を午前7時40分に出て、40分歩くと病院に着きました。



① にあてはまる数を書きましょう。(25点)

② 病院に着いた時こくは何時何分ですか。(25点)

答え (午前8時20分)

