




時こくと時間の もとめかた 8 15

◎ 正午をはさむ計算

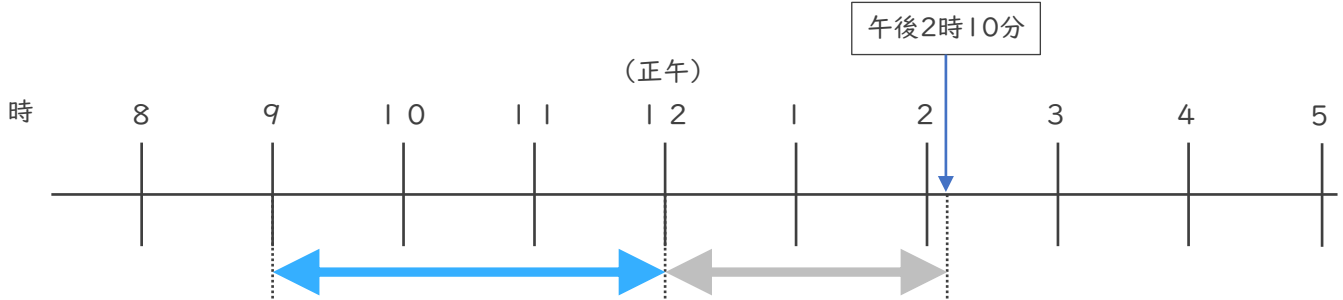
めざせ100点!



名まえ _____

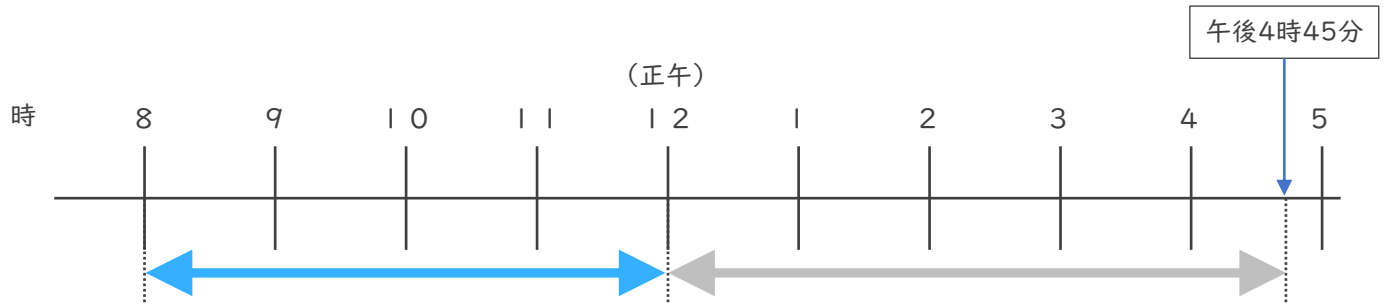
・ 次の時間をもとめましょう。

① 午前9時から午後2時10分までの時間 (35点)



答え ()

② 午前8時から午後4時45分までの時間 (35点)



答え ()

③ 午前9時50分から午前11時15分までの時間 (30点)

	時	分
—	時	分
	時	分


答え ()



時こくと時間の もとめかた 8 15

◎ 正午をはさむ計算

めざせ100点!

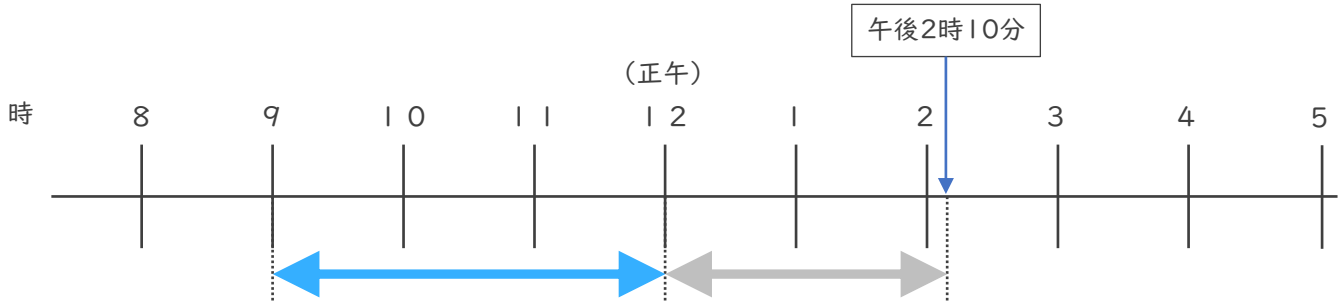


てん

名まえ _____

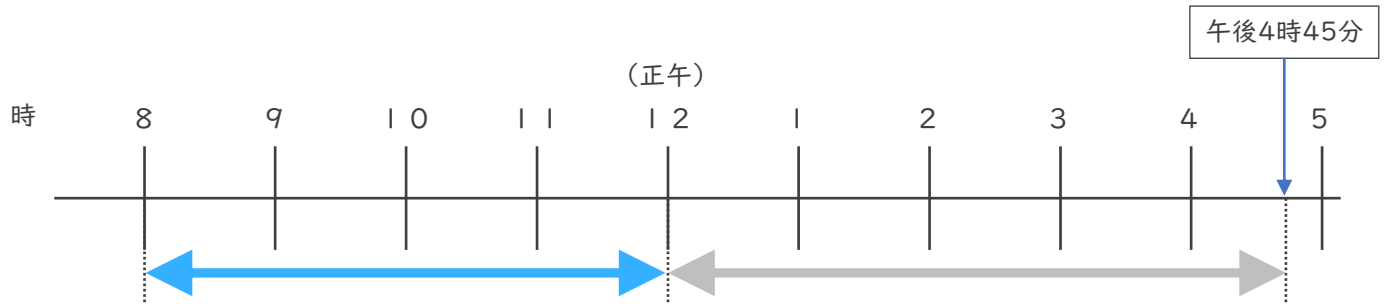
・ 次の時間をもとめましょう。

① 午前9時から午後2時10分までの時間 (35点)



答え (5 時間 1 0 分)

② 午前8時から午後4時45分までの時間 (35点)



答え (8 時間 4 5 分)

③ 午前9時50分から午前11時15分までの時間 (30点)

	10	75
11	時	15 分
-	9	時 50分
<hr/>		
	1	時 25分

答え (1 時間 2 5 分)

