




# 時こくと時間の もとめかた 8

# 15

◎ 正午をはさむ計算

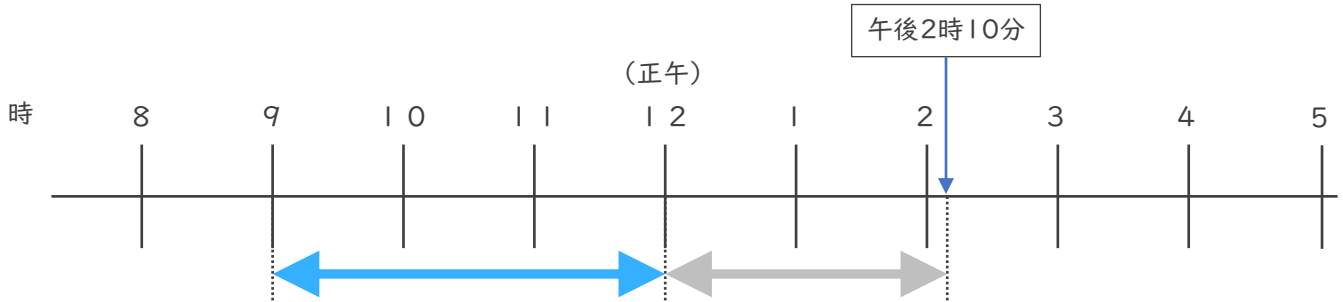
めざせ100点!



名まえ \_\_\_\_\_

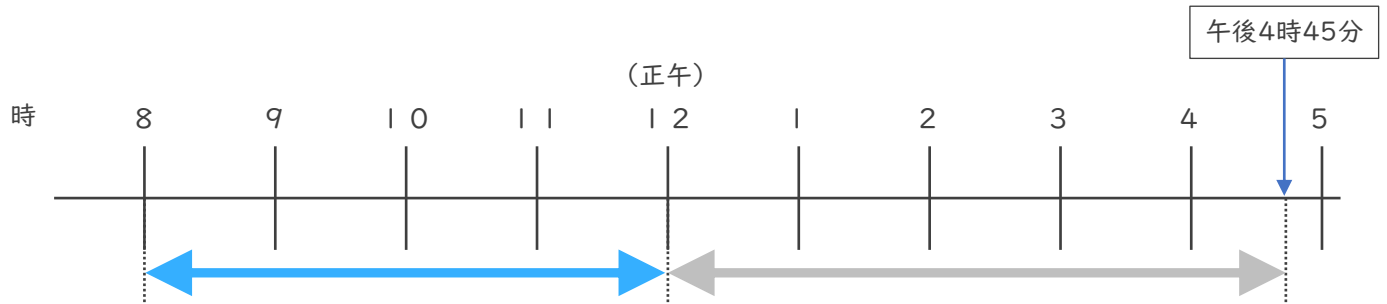
・ 次の時間をもとめましょう。

① 午前9時から午後2時10分までの時間 (35点)



答え ( )

② 午前8時から午後4時45分までの時間 (35点)



答え ( )

③ 午前9時50分から午前11時15分までの時間 (30点)

	時	分
—	時	分
	時	分


答え ( )



# 時こくと時間の もとめかた 8 15

◎ 正午をはさむ計算

めざせ100点!

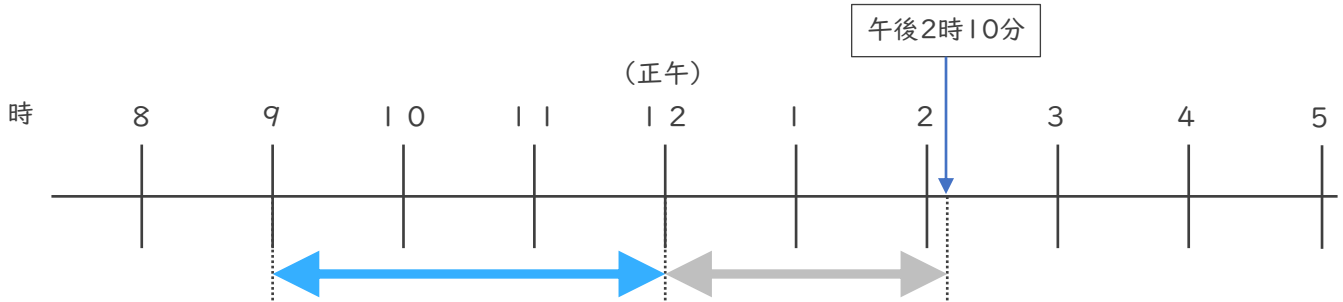


てん

名まえ

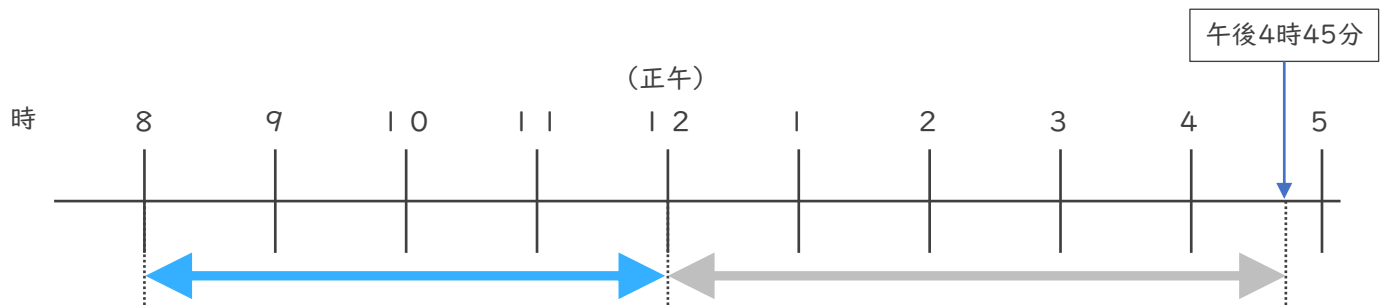
・ 次の時間をもとめましょう。

① 午前9時から午後2時10分までの時間 (35点)



答え ( 5 時間 1 0 分 )

② 午前8時から午後4時45分までの時間 (35点)



答え ( 8 時間 4 5 分 )

③ 午前9時50分から午前11時15分までの時間 (30点)

<del>11</del> 時 <del>15</del> 分 <del>−</del> 9時50分 <hr style="border: 1px solid black;"/> 1時25分
-------------------------------------------------------------------------------------------------------

答え ( 1 時間 2 5 分 )