




円と球 10

● 球の半径や直径の長さ

15

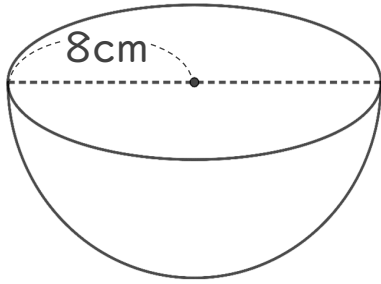
目指せ75点!



名まえ _____

・ 次の円の半径や直径は何cmですか。(各25点)

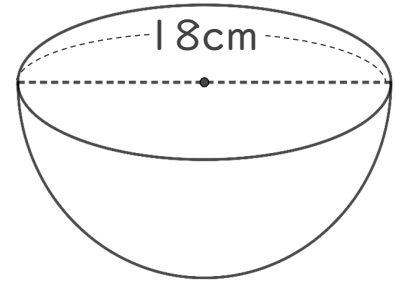
① 直径は何cmですか。



式：

答え： _____

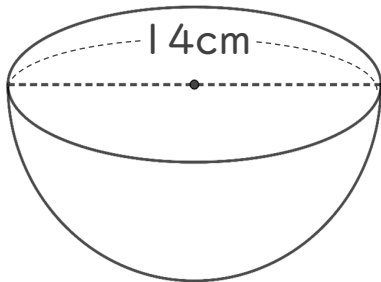
③ 半径は何cmですか。



式：

答え： _____

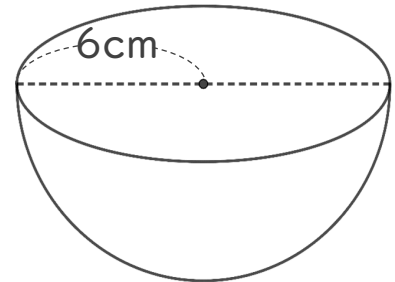
② 半径は何cmですか。



式：

答え： _____

④ 直径は何cmですか。



式：

答え： _____



円と球 10

● 球の半径や直径の長さ

15

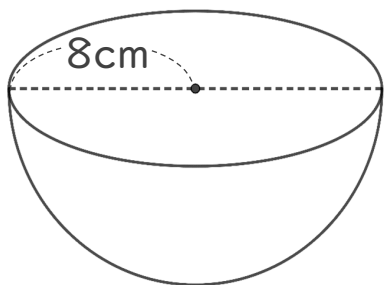
目指せ75点!



名まえ _____

・ 次の円の半径や直径は何cmですか。(各25点)

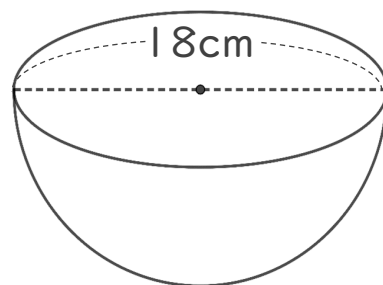
① 直径は何cmですか。



式： $8 \times 2 = 16$

答え：16 cm

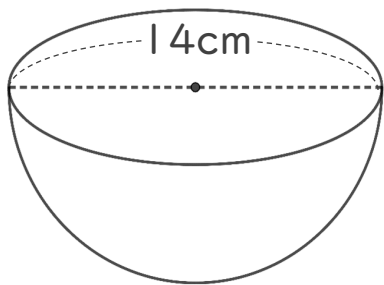
③ 半径は何cmですか。



式： $18 \div 2 = 9$

答え：9 cm

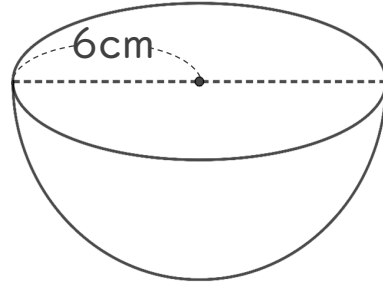
② 半径は何cmですか。



式： $14 \div 2 = 7$

答え：7 cm

④ 直径は何cmですか。



式： $6 \times 2 = 12$

答え：12 cm