




## 円と球 5

◎ 直径の長さから円をかく

15

目指せ100点!



名まえ \_\_\_\_\_

・コンパスを使って、次の円をかきましょう。

① 半径が5 cm 5 mmの円 (50点)

•

② 直径が4 cmの円 (50点)

•






## 円と球 5

● 直径の長さから円をかく

15

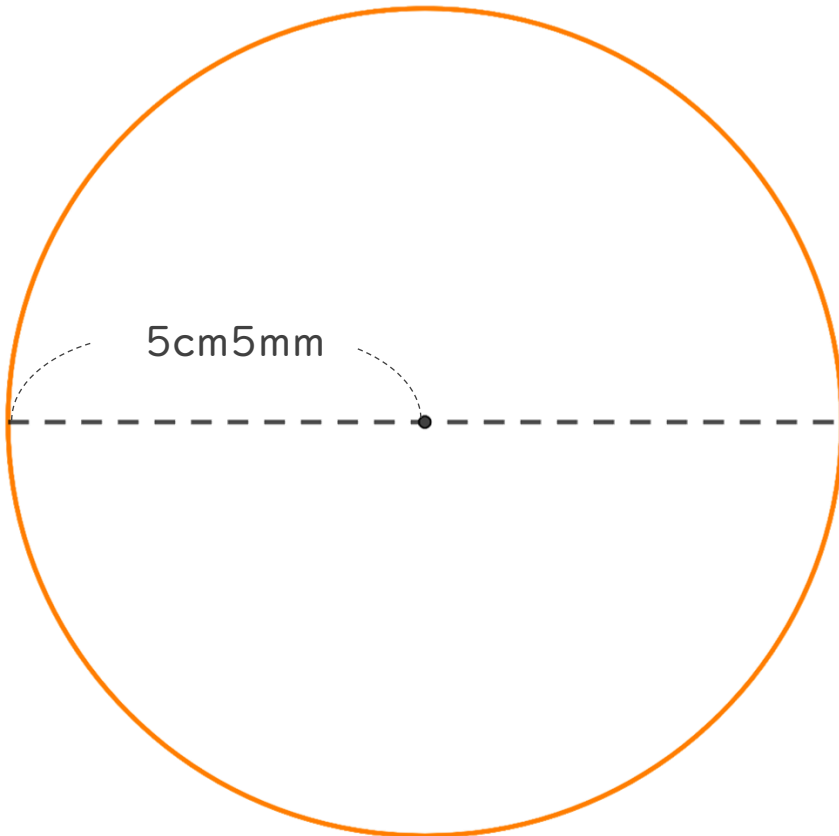
目指せ100点!



名まえ \_\_\_\_\_

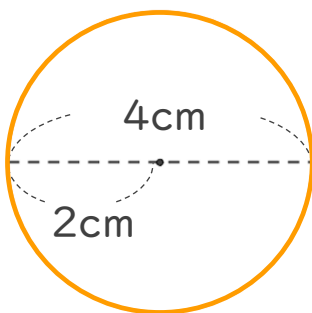
・コンパスを使って、次の円をかきましょう。

① 半径が5 cm 5 mmの円 (50点)



円をかいたら  
直径が11cmかも  
チェックしよう!

② 直径が4 cmの円 (50点)



半径は 2 cm

円をかいたら  
直径が4cmかも  
チェックしよう!

