



# 三角形と角 10

● 角を大きい  
じゅんにならべる

15

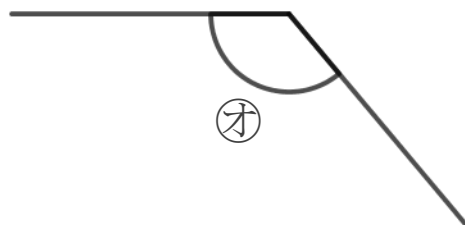
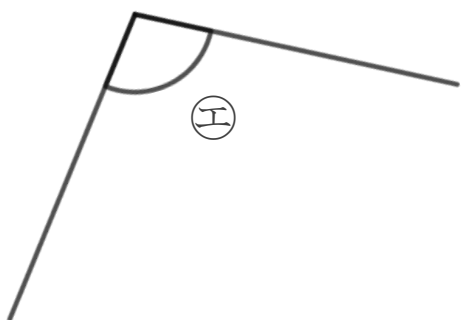
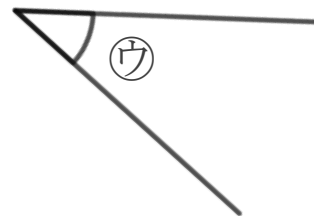
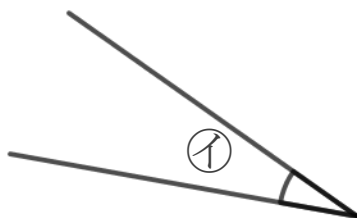
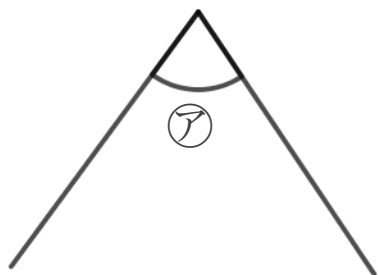
めざせ100点!



名まえ \_\_\_\_\_

1 次の角の大きさをくらべて、小さいじゅんに書きましょう。

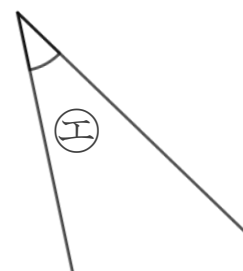
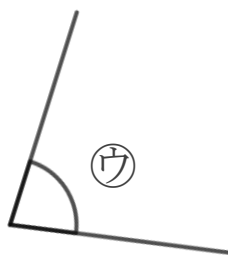
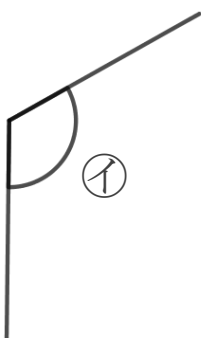
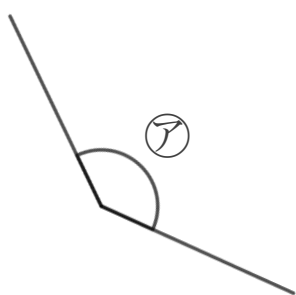
(50点)



答え：      →      →      →      →

2 次の角を見つけて、ア～エで答えましょう。

(各25点)



① いちばん大きい角

答え： \_\_\_\_\_

② いちばん小さい角

答え： \_\_\_\_\_





# 三角形と角 10

● 角を大きい  
じゅんにならべる

15

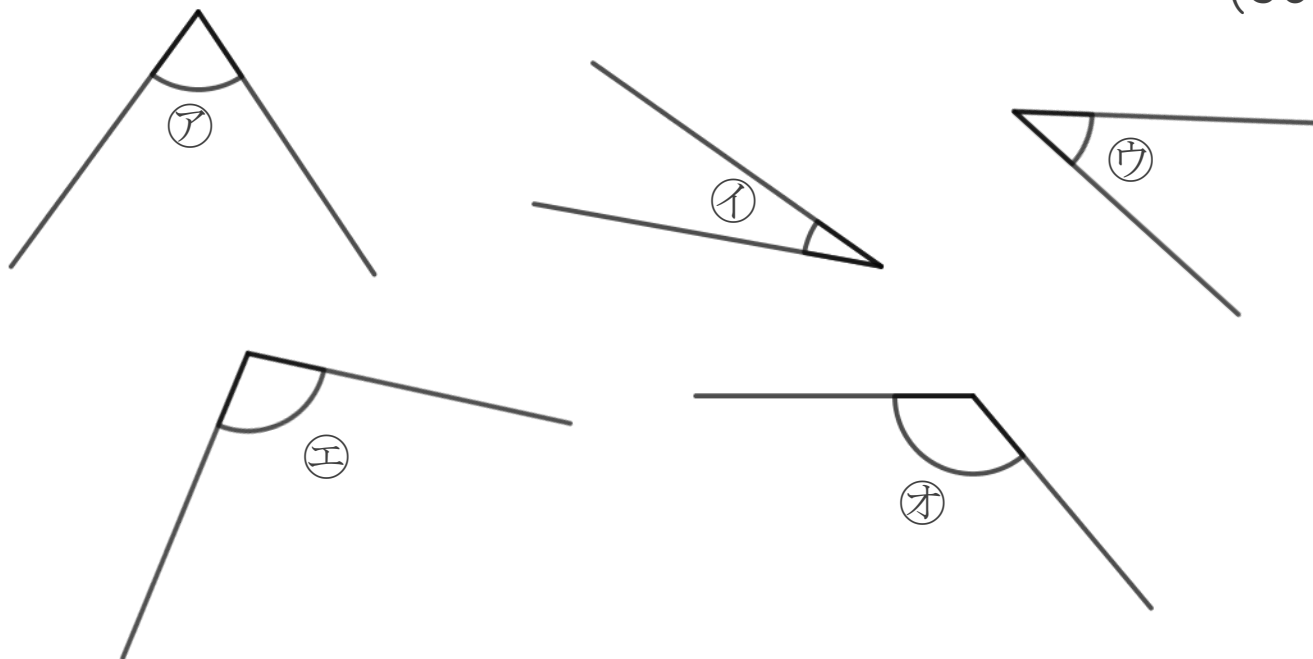
めざせ100点!



名まえ \_\_\_\_\_

1 次の角の大きさをくらべて、小さいじゅんに書きましょう。

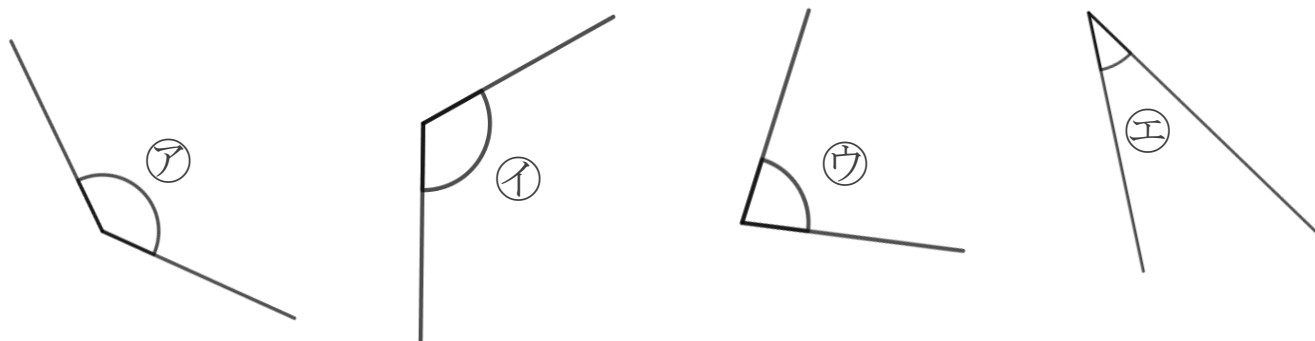
(50点)



答え： イ → ウ → ア → エ → オ

2 次の角を見つけて、ア～エで答えましょう。

(各25点)



① いちばん大きい角

答え：

ア

② いちばん小さい角

答え：

エ

