



長いものの長さの  
はかり方と表し方 3

● 長さをはかる道具

15

めざせ80点!



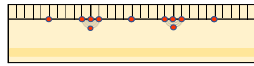
名まえ \_\_\_\_\_

1 次の長さをはかります。(ア)、(イ)、(ウ) のどれを使いますか。(各20点)

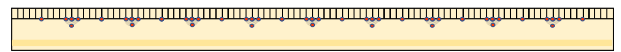
(ア) まきじゃく



(イ) 30cmものさし



(ウ) 1mものさし



① ボールペンの長さ

答え ( )

② ろう下の長さ

答え ( )

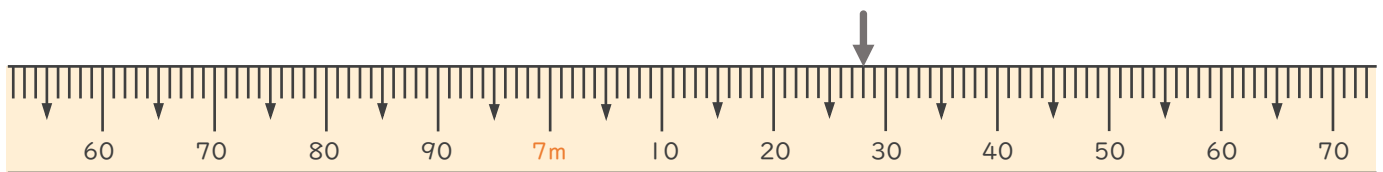
③ れいぞうこの横の長さ

答え ( )

④ ドラムかんのまわりの長さ

答え ( )

2 次のまきじゃくで、↓のめもりが表している長さを読み取りましょ  
う。(20点)



答え ( )




# 長いものの長さの はかり方と表し方 3

● 長さをはかる道具

15

めざせ80点!



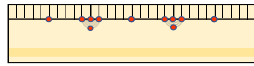
名まえ

1 次の長さをはかります。(ア)、(イ)、(ウ) のどれを使いますか。(各20点)

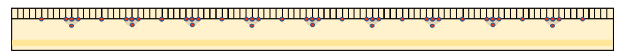
(ア) まきじゃく



(イ) 30cmものさし



(ウ) 1mものさし



① ボールペンの長さ

答え ( イ )

② ろう下の長さ

答え ( ア )

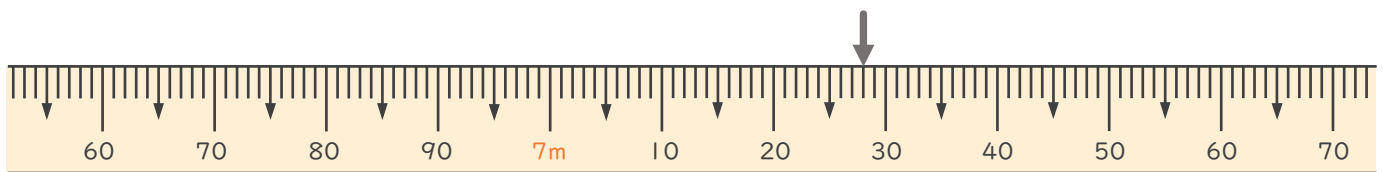
③ れいぞうこの横の長さ

答え ( ウ )

④ ドラムかんのまわりの長さ

答え ( ア )

2 次のまきじゃくで、↓のめもりが表している長さを読み取りましよう。(20点)



答え ( 7m28cm )

