




分数 8

● 1より大きい分数を
数直線に表す

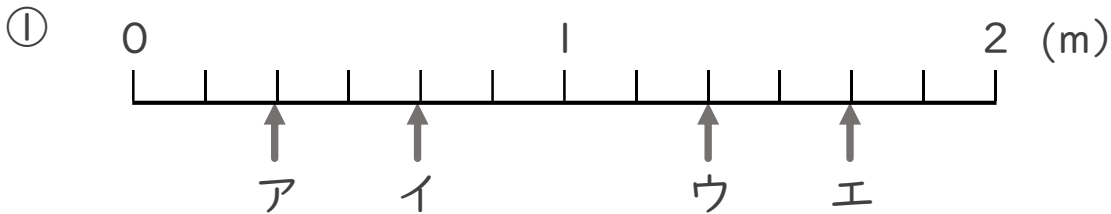
15

目指せ80点!

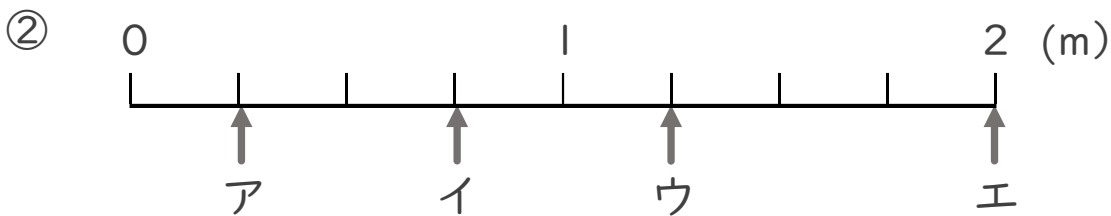


名まえ _____

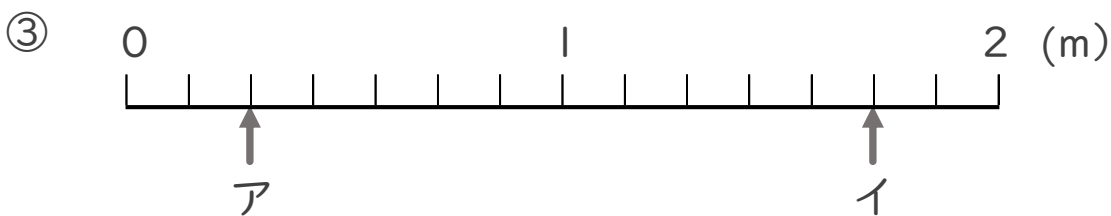
・ ア～エのめもりが表す長さは、それぞれ何mですか。 (各10点)



答え ア $\frac{2}{6}$ m イ $\frac{4}{6}$ m ウ $\frac{8}{6}$ m エ $\frac{10}{6}$ m



答え ア $\frac{1}{4}$ m イ $\frac{3}{4}$ m ウ $\frac{5}{4}$ m エ 2 m



答え ア $\frac{2}{7}$ m イ $\frac{12}{7}$ m