





# 分数 8

● 1より大きい分数を  
数直線に表す

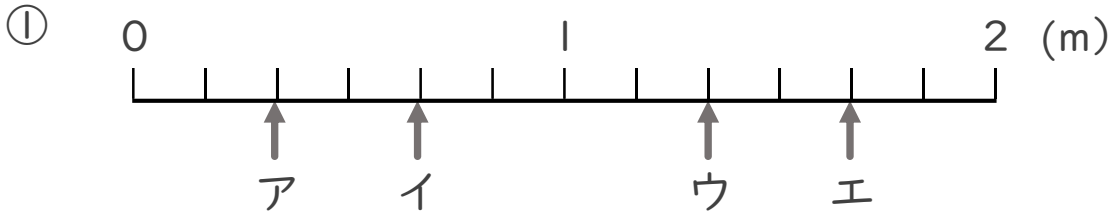
15

目指せ80点!

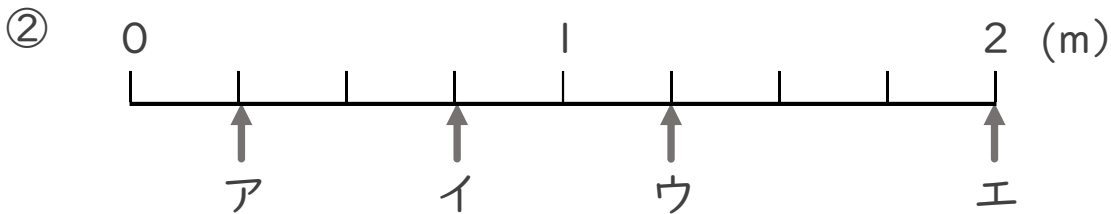


名まえ \_\_\_\_\_

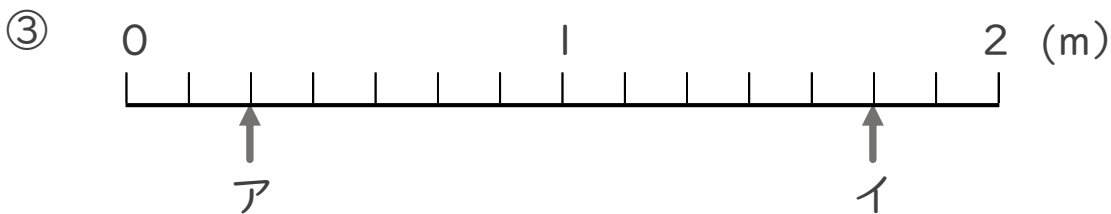
・ ア～エのめもりが表す長さは、それぞれ何mですか。 (各10点)



答え ア  $\frac{2}{6}$  m イ  $\frac{4}{6}$  m ウ  $\frac{8}{6}$  m エ  $\frac{10}{6}$  m



答え ア  $\frac{1}{4}$  m イ  $\frac{3}{4}$  m ウ  $\frac{5}{4}$  m エ 2 m



答え ア  $\frac{2}{7}$  m イ  $\frac{12}{7}$  m