



分数 7

1より小さい分数を
数直線に表す



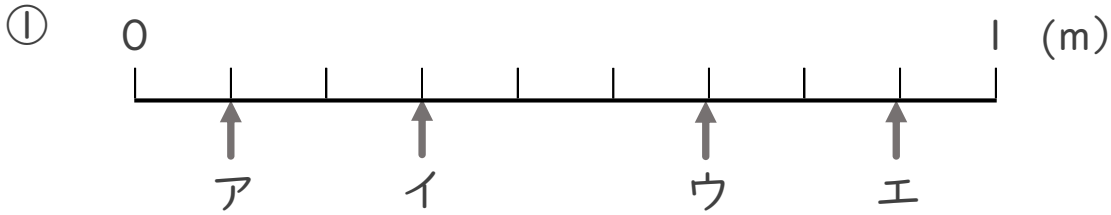
目指せ80点!



名まえ _____

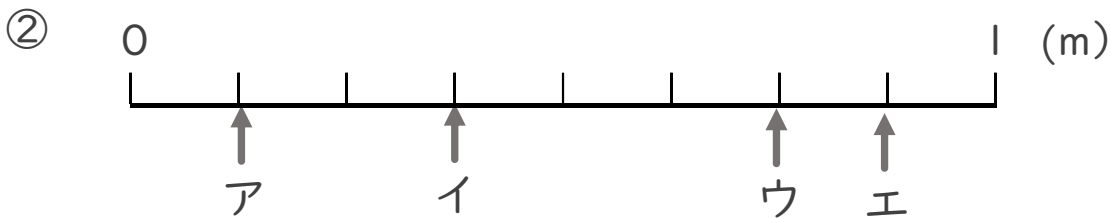
1 ア～エのめもりが表す長さは、それぞれ何mですか。

(各10点)



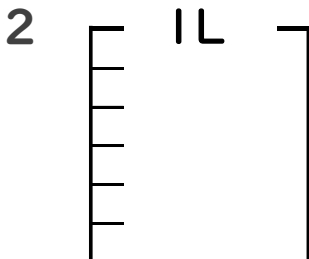
答え ア イ ウ エ

 _____m _____m _____m _____m



答え ア イ ウ エ

 _____m _____m _____m _____m



① $\frac{1}{6}$ Lの4こ分だけ色をぬりましょう。(各10点)

② 色をぬったところのかさは何Lですか。 _____ L



分数 7

1より小さい分数を
数直線に表す

15

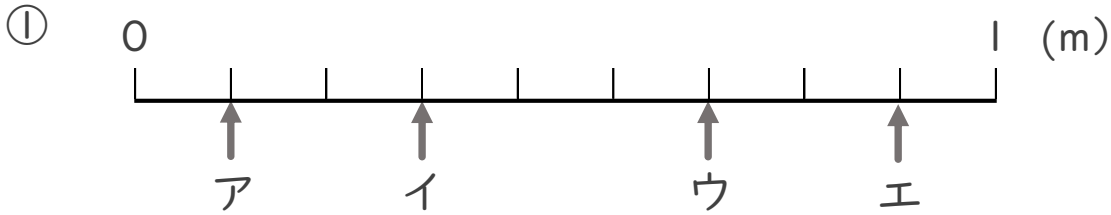
目指せ80点!



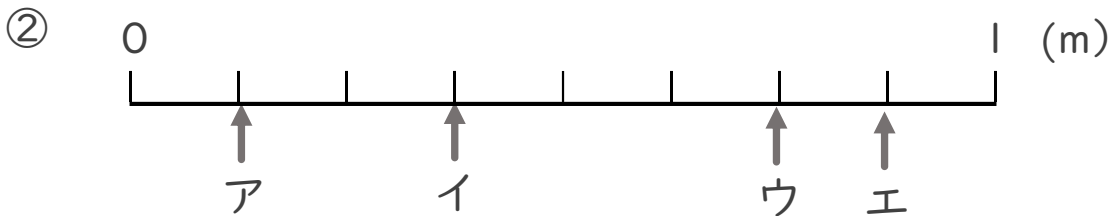
名まえ _____

1 ア～エのめもりが表す長さは、それぞれ何mですか。

(各10点)



答え ア $\frac{1}{9}$ m イ $\frac{3}{9}$ m ウ $\frac{6}{9}$ m エ $\frac{8}{9}$ m



答え ア $\frac{1}{8}$ m イ $\frac{3}{8}$ m ウ $\frac{6}{8}$ m エ $\frac{7}{8}$ m



① $\frac{1}{6}$ Lの4こ分だけ色をぬりましょう。 (各10点)

② 色をぬったところのかさは何Lですか。 $\frac{4}{6}$ L