



分数 7

1より小さい分数を
数直線に表す

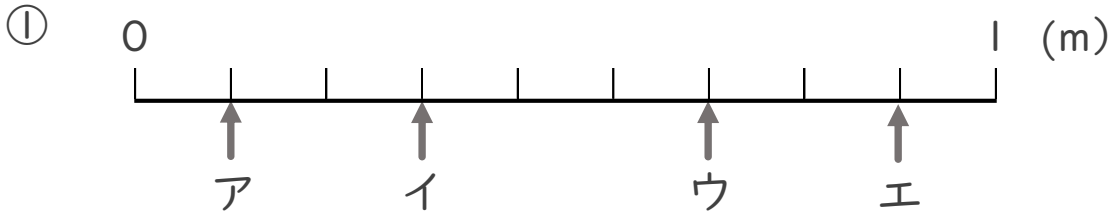
15

目指せ90点!

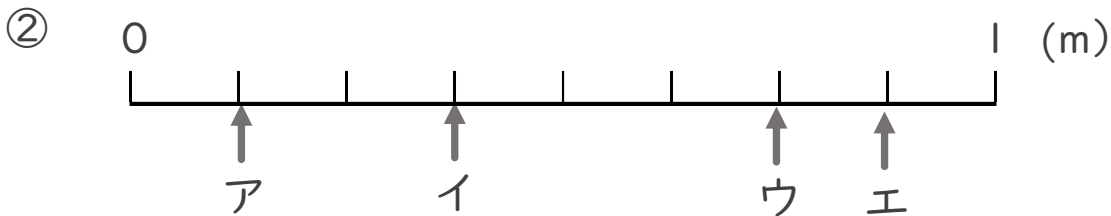


名まえ _____

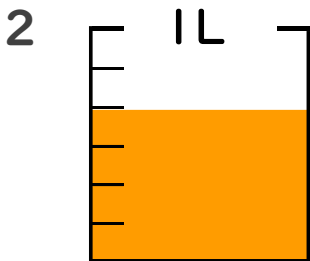
1 ア～エのめもりが表す長さは、それぞれ何mですか。(各10点)



答え ア $\frac{1}{9}$ m イ $\frac{3}{9}$ m ウ $\frac{6}{9}$ m エ $\frac{8}{9}$ m



答え ア $\frac{1}{8}$ m イ $\frac{3}{8}$ m ウ $\frac{6}{8}$ m エ $\frac{7}{8}$ m



① $\frac{1}{6}$ Lの4こ分だけ色をぬりましょう。

② 色をぬったところのかさは何Lですか。 $\frac{4}{6}$ L

(各10点)