



大きい数のしくみ 9

● 1万の位の数直線



めざせ90点!

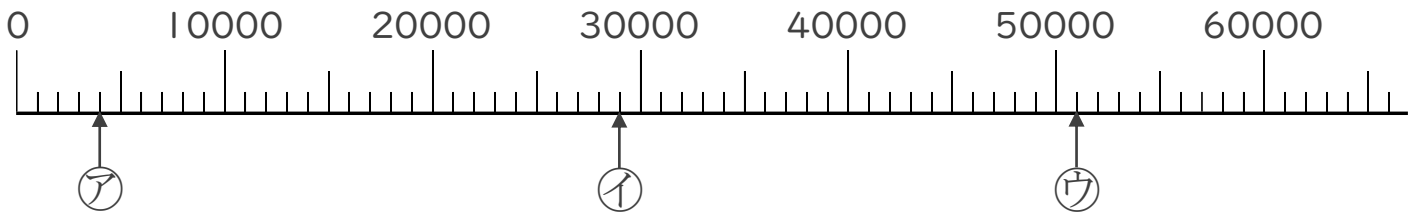


名まえ _____

1 ㉠～㉣のめもりが表している数を〔 〕に書きましょう。

(各14点)

①

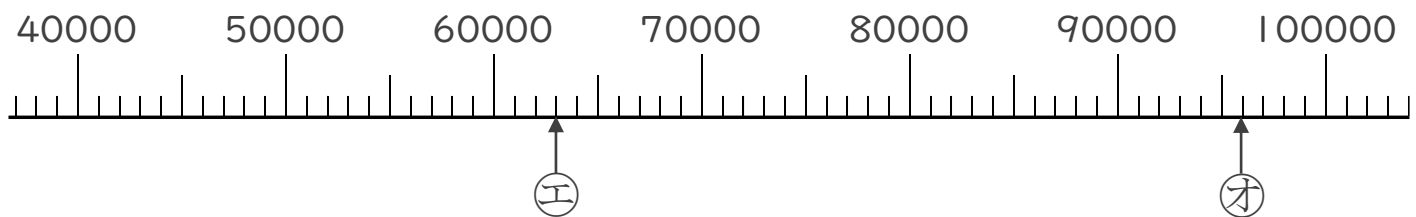


〔 〕

〔 〕

〔 〕

②

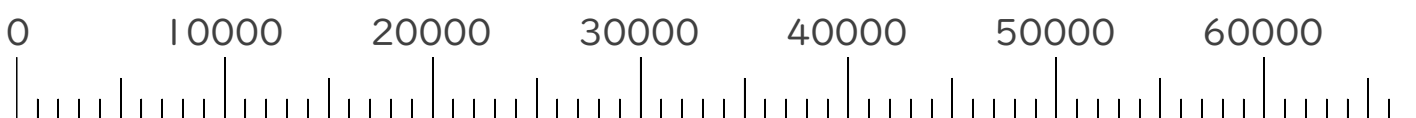


〔 〕

〔 〕

2 次の数を表すめもりに、↑を書きましょう。(各10点)

- ① 8000 ② 25000 ③ 47000





大きい数のしくみ 9

● 1万の位の数直線



めざせ90点!

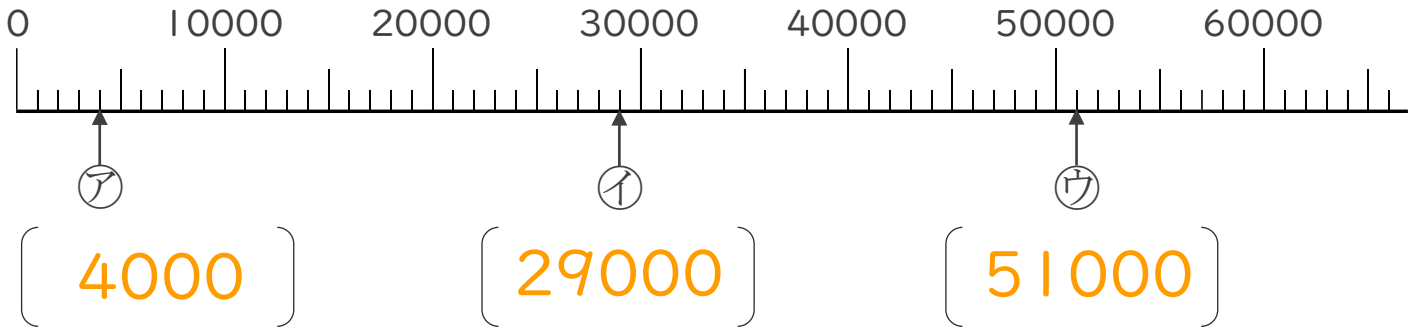


名まえ _____

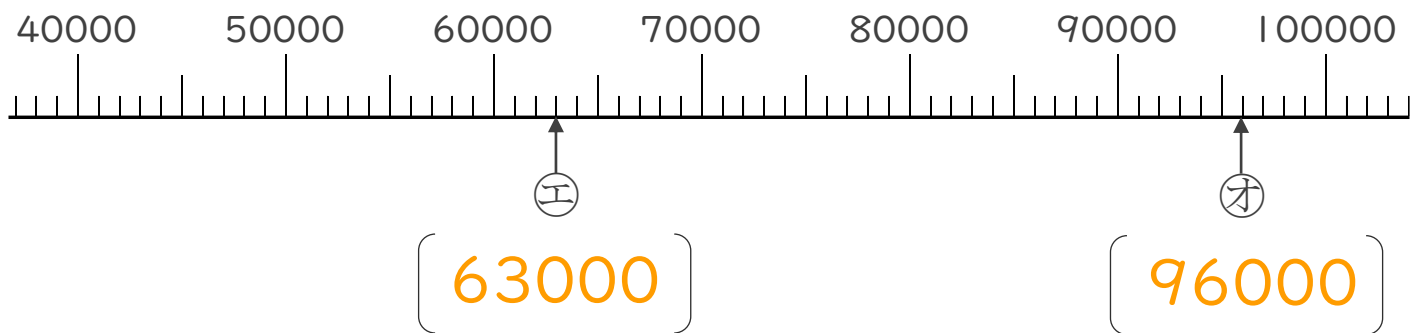
1 ㉠～㉣のめもりが表している数を〔 〕に書きましょう。

(各14点)

①



②



2 次の数を表すめもりに、↑を書きましょう。(各10点)

- ① 8000 ② 25000 ③ 47000

