




かけ算の筆算 5

● 2けた × 1けた
(くり上がりなし)

15

目指せ80点!



名まえ _____

・ 次の計算を筆算でしましょう。(各20点)

① 12×3


④ 24×2

② 32×3

⑤ 14×2

③ 22×3






かけ算の筆算5

● 2けた×1けた
(くり上がりなし)

15

目指せ80点!



名まえ _____

・ 次の計算を筆算でしましょう。(各20点)

① 12×3

	1	2
×		3
<hr/>		
	3	6

④ 24×2

	2	4
×		2
<hr/>		
	4	8

② 32×3

	3	2
×		3
<hr/>		
	9	6

⑤ 14×2

	1	4
×		2
<hr/>		
	2	8

③ 22×3

	2	2
×		3
<hr/>		
	6	6

