



たし算と
ひき算の筆算 Ⅱ

● 3けたのひき算
(くり下がりがり)

15

目指せ90点!



名まえ



・ 次の計算を筆算でしましょう。 (①・②各10点/③~⑥各20点)

$$\begin{array}{r} \textcircled{1} \quad 635 \\ - 215 \\ \hline \end{array}$$

$$\begin{array}{r} \textcircled{2} \quad 920 \\ - 407 \\ \hline \end{array}$$


$$\textcircled{3} \quad 856 - 482$$

$$\textcircled{4} \quad 763 - 558$$



$$\textcircled{5} \quad 983 - 321$$

$$\textcircled{6} \quad 517 - 387$$





たし算と
ひき算の筆算 11

● 3けたのひき算
(くり下がりがりあり)

15

目指せ90点!



名まえ

・次の計算を筆算でしましょう。

(①・②各10点/③~⑥各20点)

$$\begin{array}{r} \textcircled{1} \quad 635 \\ - 215 \\ \hline 420 \end{array}$$

$$\begin{array}{r} \textcircled{2} \quad 920 \\ - 407 \\ \hline 513 \end{array}$$

$$\textcircled{3} \quad 856 - 482$$

	7	10	
	8	5	6
-	4	8	2
	3	7	4

$$\textcircled{4} \quad 763 - 558$$

	5	10	
	7	6	3
-	5	5	8
	2	0	5

$$\textcircled{5} \quad 983 - 321$$

	9	8	3
-	3	2	1
	6	6	2

$$\textcircled{6} \quad 517 - 387$$

	4	10	
	5	1	7
-	3	8	7
	1	3	0