



小数の意味と表し方8

mmをcmになおす

15

目指せ80点!



名まえ

1 にあてはまる数を書きましょう。(各10点)

① 5 cm 2 mm = cm

⑤ 3 mm = cm

② 9 cm 7 mm = cm

⑥ 69 cm 5 mm = cm

③ 56 cm 4 mm = cm

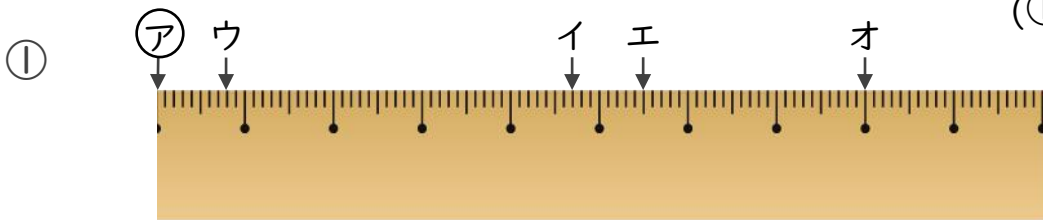
⑦ 5 cm 8 mm = cm

④ 9 mm = cm

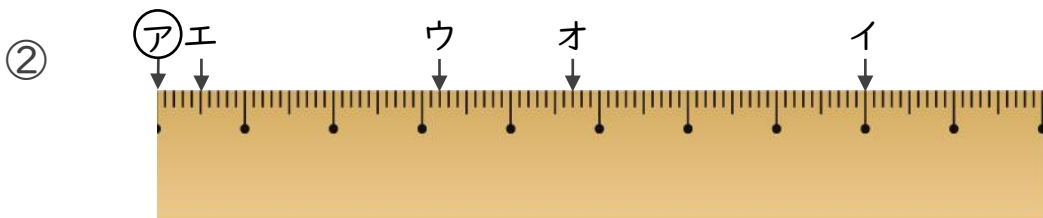
⑧ 7 mm = cm

2 ㉞からイ、ウ、エ、オまでの長さは、それぞれ何cmですか。

(①②各10点)



- 答え
- ㉞からイ
 - ㉞からウ
 - ㉞からエ
 - ㉞からオ



- 答え
- ㉞からイ
 - ㉞からウ
 - ㉞からエ
 - ㉞からオ



小数の意味と表し方8

mmをcmになおす

15

目指せ80点!



名まえ _____

1 にあてはまる数を書きましょう。(各10点)

① 5 cm 2 mm = **5.2** cm

⑤ 3 mm = **0.3** cm

② 9 cm 7 mm = **9.7** cm

⑥ 69 cm 5 mm = **69.5** cm

③ 56 cm 4 mm = **56.4** cm

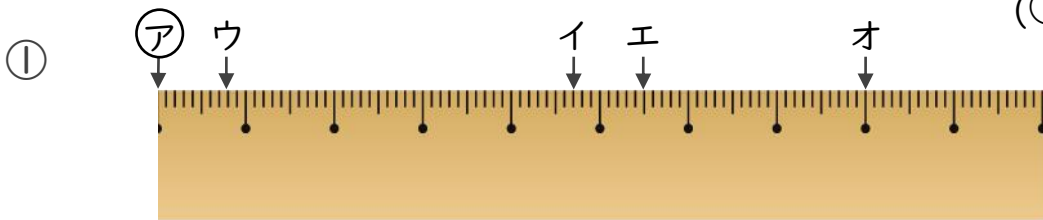
⑦ 5 cm 8 mm = **5.8** cm

④ 9 mm = **0.9** cm

⑧ 7 mm = **0.7** cm

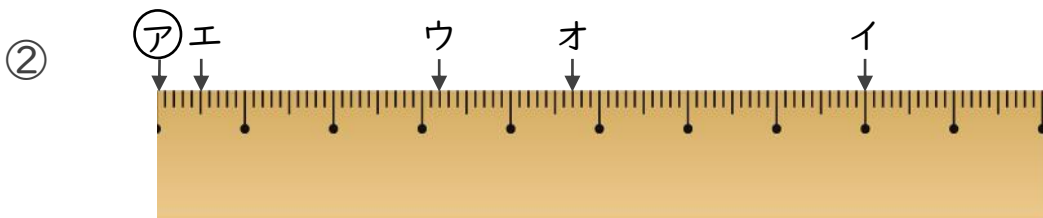
2 ㉞からイ、ウ、エ、オまでの長さは、それぞれ何cmですか。

(①②各10点)



答え ㉞からイ **4.7** cm ㉞からウ **0.8** cm

㉞からエ **5.5** cm ㉞からオ **8** cm



答え ㉞からイ **8** cm ㉞からウ **3.2** cm

㉞からエ **0.5** cm ㉞からオ **4.7** cm