




時こくと時間の  
もとめかた 12 16

○時間△分前の時こく (計算)

めざせ100点!



名まえ \_\_\_\_\_

1 次の時間をもとめましょう。(各35点)

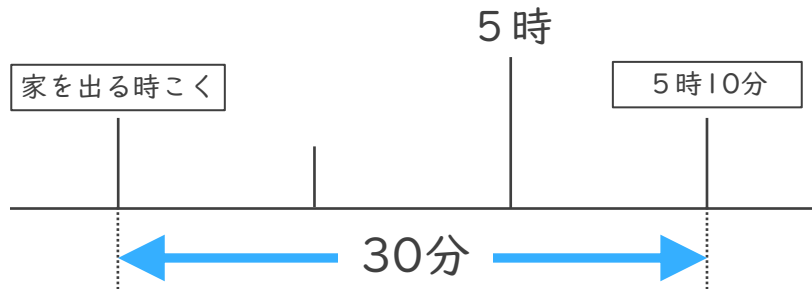
① 午後8時より1時間25分前の時こく

$$\begin{array}{r}
 8 \text{ 時 } 00 \text{ 分} \\
 - 1 \text{ 時 } 25 \text{ 分} \\
 \hline
 \text{時} \quad \text{分} \quad \text{答え ( } \quad \quad \quad \text{ )}
 \end{array}$$

② 午前10時より3時間26分前の時こく

$$\begin{array}{r}
 10 \text{ 時 } 00 \text{ 分} \\
 - 3 \text{ 時 } 26 \text{ 分} \\
 \hline
 \text{時} \quad \text{分} \quad \text{答え ( } \quad \quad \quad \text{ )}
 \end{array}$$

2 けんさんの家から公園まで30分かかります。5時10分までに公園に着くためには、おそくとも何時何分までに家を出なければならないでしょうか。(30点)




答え ( )



時こくと時間の  
もとめかた 12 16

○時間△分前の時こく (計算)

めざせ100点!



名まえ \_\_\_\_\_

1 次の時間をもとめましょう。(各35点)

① 午後8時より1時間25分前の時こく

$$\begin{array}{r}
 7 \quad 60 \\
 \cancel{8} \text{ 時 } \cancel{00} \text{ 分} \\
 - \quad 1 \text{ 時 } 25 \text{ 分} \\
 \hline
 6 \text{ 時 } 35 \text{ 分}
 \end{array}$$

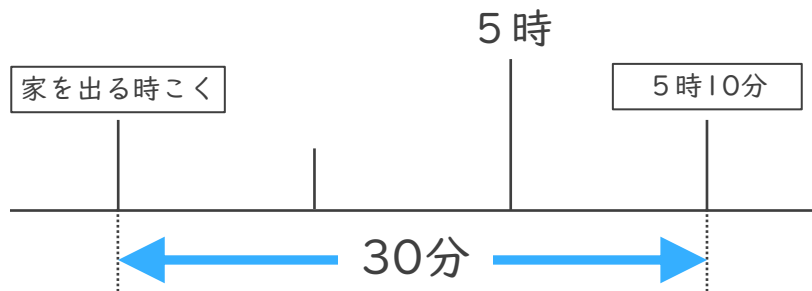
答え ( 6時35分 )

② 午前10時より3時間26分前の時こく

$$\begin{array}{r}
 9 \quad 60 \\
 \cancel{10} \text{ 時 } \cancel{00} \text{ 分} \\
 - \quad 3 \text{ 時 } 26 \text{ 分} \\
 \hline
 6 \text{ 時 } 34 \text{ 分}
 \end{array}$$

答え ( 6時34分 )

2 けんさんの<sup>いえ</sup>家から<sup>こうえん</sup>公園まで30<sup>ぶん</sup>分かかります。5<sup>じ</sup>時10分までに公園に着くためには、おそくとも何<sup>なんじ</sup>時何<sup>なんぶん</sup>分までに家を出なければならないでしょうか。(30点)



答え ( 4時40分 )

