






# 時こくと時間の もとめかた 5

● かかった時間を  
もとめる (時計)

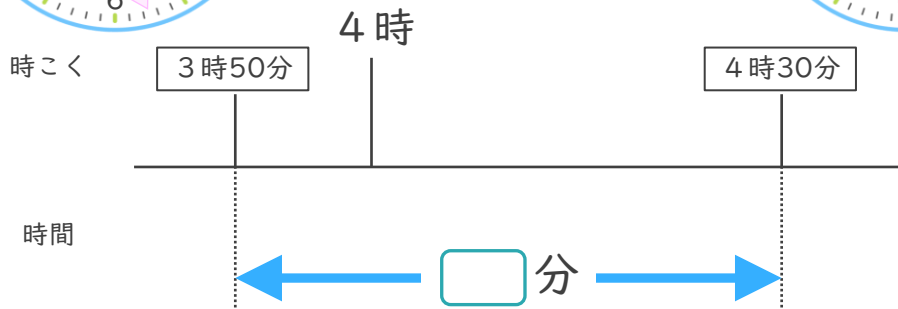
16

めざせ75点!



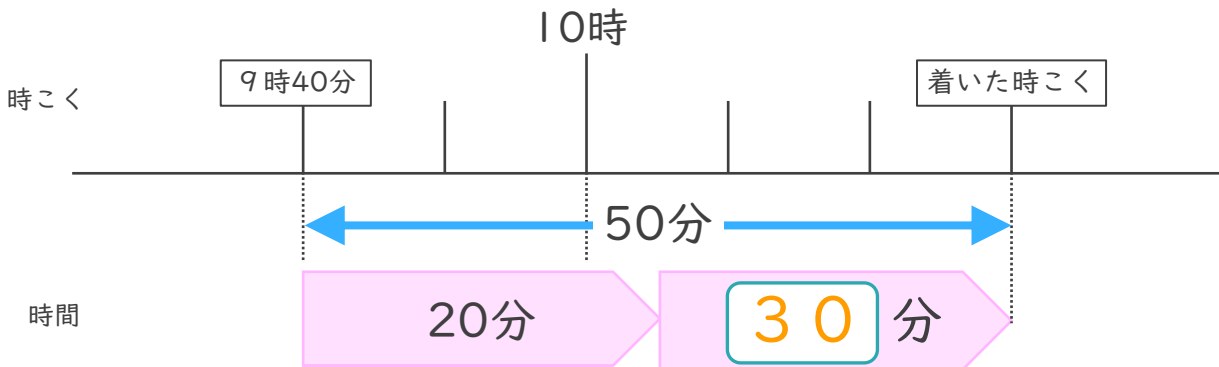
名まえ \_\_\_\_\_

1 学校を3時50分に出て、公園に4時30分に着きました。学校から公園まで、かかった時間は何分ですか。(50点)



答え (      40分      )

2 家を午前9時40分に出て、50分歩くと公園に着きました。



①  にあてはまる数を書きましょう。(25点)

② 公園に着いた時こくは何時何分ですか。(25点)

答え (      10時30分      )