



かけ算 4

● かける数が
1小さくなると・・・



目指せ75点!



名まえ _____

1 8のだんについて考えましょう。

① 次の に数を書きましょう。 (各20点)

ア $8 \times \square = 48$

イ $8 \times \square + 8 = 48$

② アの式も イの式も答えが、48になります。


次の に数を書きましょう。 (10点)

$$8 \times 6 = 8 \times 5 + \square$$


2 下の①、②は、かけ算九九表の一部です。

 でかかれている数をいみましょう。 (各25点)

①

	4	8	12	
	5	10	15	
		12	18	

②

	24	30	36	
	28	35		
	32	40	48	

答え： _____

答え： _____






かけ算 4

● かける数が
1小さくなると・・・



目指せ75点!



名まえ _____

1 8のだんについて考えましょう。

① 次の に数を書きましょう。(各20点)

ア $8 \times 6 = 48$

イ $8 \times 5 + 8 = 48$


② アの式も イの式も答えが、48になります。
次の に数を書きましょう。(10点)

$$8 \times 6 = 8 \times 5 + 8$$

2 下の①、②は、かけ算九九表の一部です。


 でかかれている数をいみましょう。(各25点)

①

	4	8	12	
	5	10	15	
		12	18	

答え： 6

②

	24	30	36	
	28	35		
	32	40	48	

答え： 42

