




長いものの長さの はかり方と表し方 4

● きよりと道のり (メートル)

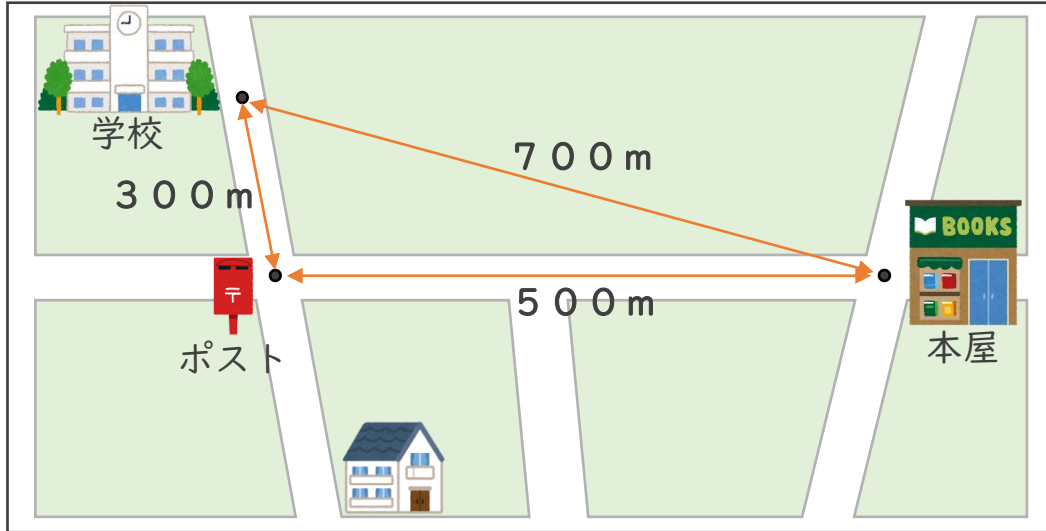
16

めざせ80点!



名まえ _____

1 下の絵地図を見て、次の長さをもとめましょう。(各20点)



① 学校から本屋までのきよりは、何mですか。

答え ()

② 学校から本屋までの道のりは、何mですか。

式：

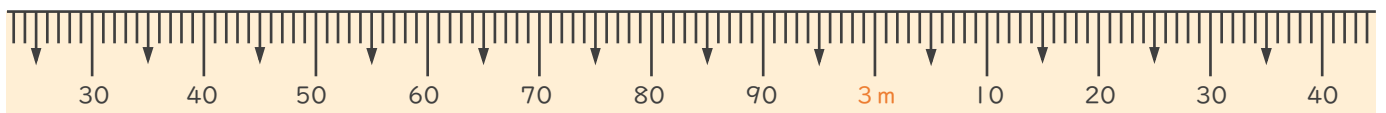
答え ()

2 次のまきじゃくで、①～③の長さを表すメモりに ↓ をかきましょう。
(各20点)

① 2m35cm

② 2m96cm

③ 3m15cm






長いものの長さの はかり方と表し方 4

16

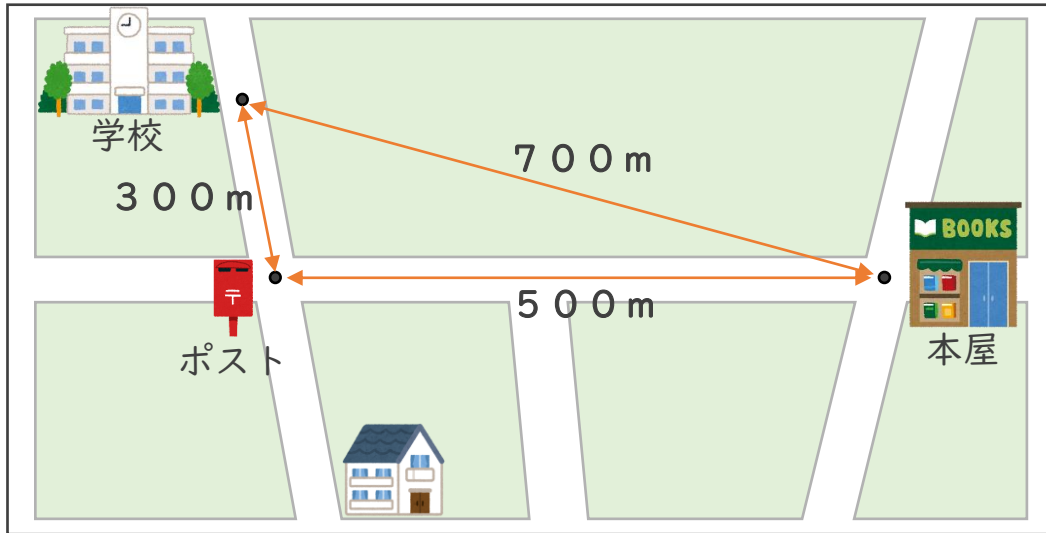
● きよりと道のり (メートル)

めざせ80点!



名まえ

1 下の絵地図を見て、次の長さをもとめましょう。(各20点)



① 学校から本屋までのきよりは、何mですか。

答え (700m)

② 学校から本屋までの道のりは、何mですか。

式: $300m + 500m = 800m$

答え (800m)

2 次のまきじゃくで、①～③の長さを表すメモリに↓をかきましょう。(各20点)

① 2m35cm

② 2m96cm

③ 3m15cm

