




小数のたし算とひき算 6

たし算の筆算：繰り上がりあり



目指せ80点!



名まえ _____

・ 次の計算をしなさい。(各10点)

① $1.6 - 0.8 =$

② $1.7 - 0.4 =$

③ $1 - 0.3 =$

④ $1.4 - 0.9 =$

⑤

	2	7
+	9	6
<hr/>		

⑥

	4	5
+	7	8
<hr/>		




⑦

	3	6
+	5	8
<hr/>		

⑧ $7.6 + 5.8$

⑨ $4.7 + 5.9$

⑩ $8.4 + 3.7$






小数のたし算とひき算 6

たし算の筆算：繰り上がりあり

16

目指せ80点!



名まえ

・ 次の計算をしなさい。(各10点)

① $1.6 - 0.8 = 0.8$

② $1.7 - 0.4 = 1.3$

③ $1 - 0.3 = 0.7$

④ $1.4 - 0.9 = 0.5$

⑤

	2	7
+	9	6
<hr/>		
1	2	3

⑥

	4	5
+	7	8
<hr/>		
1	2	3

⑦

	3	6
+	5	8
<hr/>		
	9	4

⑧ $7.6 + 5.8$

⑨ $4.7 + 5.9$

⑩ $8.4 + 3.7$

	7	6
+	5	8
<hr/>		
1	3	4

	4	7
+	5	9
<hr/>		
1	0	6

	8	4
+	3	7
<hr/>		
1	2	1