



小数のたし算とひき算 9

◎ ひき算の筆算：繰り下がりあり

16

目指せ80点!



名まえ _____

1 次の計算をしましょう。(各10点)

①

	4	.	8
-	1	.	3


②

	6	.	2
-	0	.	7

③

	8	.	1
-	5	.	6

④ 7.3 - 3.4



⑤ 5.6 - 0.9



2 次の計算をしましょう。(各10点)

①

	2	.	7
+	8	.	3


②

	4	.	9
+	7	.	6


③

	4	.	6
+	3	.	4

④ 9 + 1.6



⑤ 3.3 + 8.1





小数のたし算とひき算 9

ひき算の筆算：繰り下がりがりあり

16

目指せ80点!



名まえ

1 次の計算をしましょう。(各10点)

$$\begin{array}{r} 4.8 \\ - 1.3 \\ \hline 3.5 \end{array}$$

$$\begin{array}{r} 6.2 \\ - 0.7 \\ \hline 5.5 \end{array}$$

$$\begin{array}{r} 8.1 \\ - 5.6 \\ \hline 2.5 \end{array}$$

④ 7.3 - 3.4

⑤ 5.6 - 0.9

$$\begin{array}{r} 7.3 \\ - 3.4 \\ \hline 3.9 \end{array}$$

$$\begin{array}{r} 5.6 \\ - 0.9 \\ \hline 4.7 \end{array}$$

2 次の計算をしましょう。(各10点)

$$\begin{array}{r} 2.7 \\ + 8.3 \\ \hline 11.0 \end{array}$$

$$\begin{array}{r} 4.9 \\ + 7.6 \\ \hline 12.5 \end{array}$$

$$\begin{array}{r} 4.6 \\ + 3.4 \\ \hline 8.0 \end{array}$$

④ 9 + 1.6

⑤ 3.3 + 8.1

$$\begin{array}{r} 9.0 \\ + 1.6 \\ \hline 10.6 \end{array}$$

$$\begin{array}{r} 3.3 \\ + 8.1 \\ \hline 11.4 \end{array}$$

