




ぼうグラフと表 2

◎ ぼうグラフの読みとり方

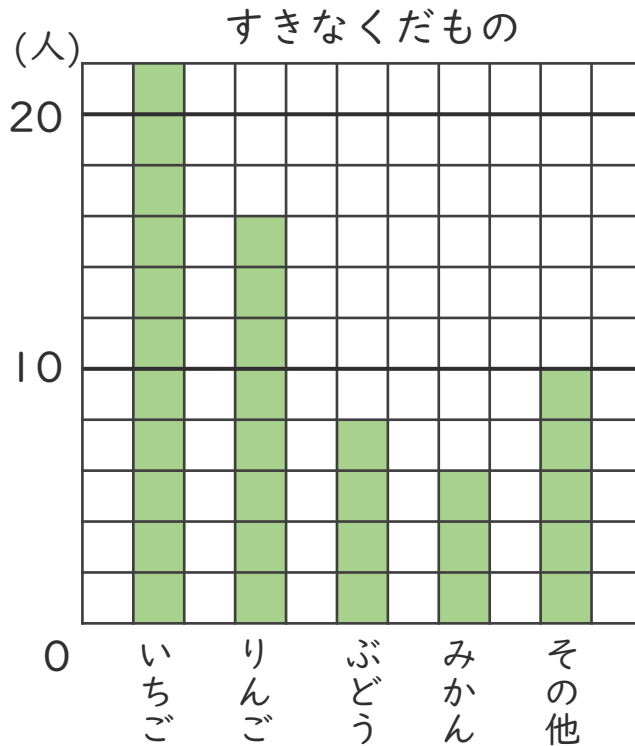


めざせ100点!



名まえ _____

・ グラフを見て、答えましょう。(各25点)



① たてじくは、人数を表しています。1メモリは何人でしょう。

[]

② 横じくには、何を書いているでしょう。

[]

③ すきな人がいちばん多くくだものは何ですか。

[]

④ りんごの人数は、ぶどうの人数の何倍ですか。

式:

[]






ぼうグラフと表 2

◎ ぼうグラフの読みとり方

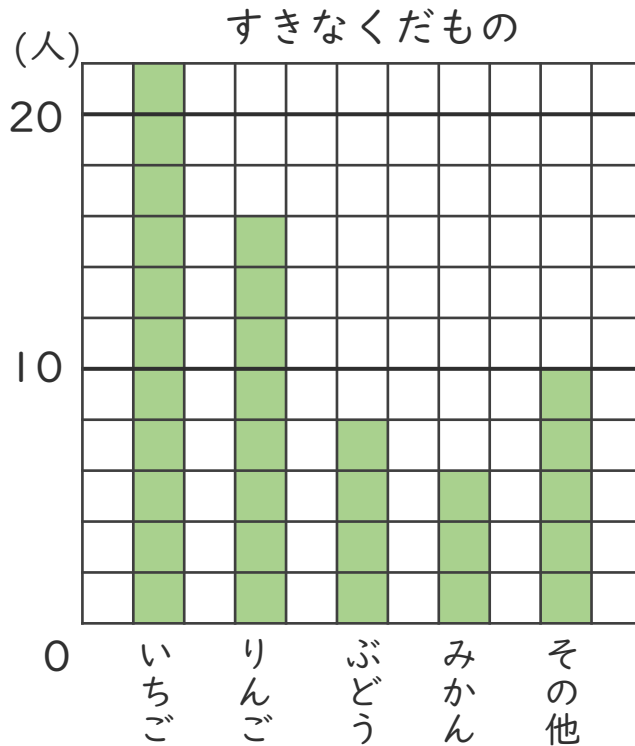


めざせ100点!



名まえ _____

・ グラフを見て、答えましょう。(各25点)



① たてじくは、人数を表しています。1メモリは何人でしょう。

〔 2人 〕

② 横じくには、何を書いているでしょう。

〔 くだもののしゅるい 〕

③ すきな人がいちばん多いくだものは何ですか。

〔 いちご 〕

④ りんごの人数は、ぶどうの人数の何倍ですか。

式: $16 \div 8 = 2$

〔 2倍 〕

