




円と球 7

コンパスで長さ比べ

16

目指せ75点!



名まえ

1 次の直線の長さをくらべ、長い順に答えましょう。(各25点)

①

ア

イ

ウ

答え：



②

ア

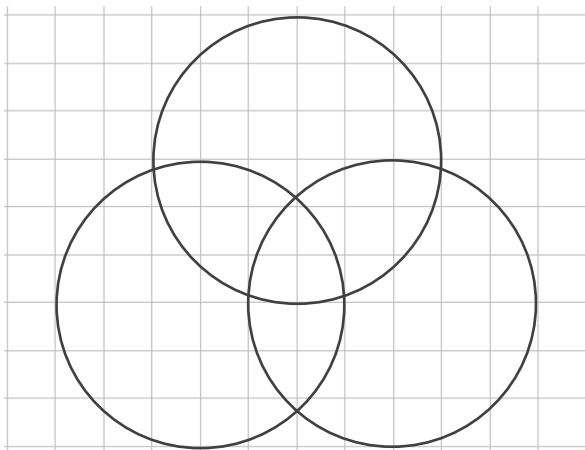
イ

ウ

答え：



2 コンパスを使って、次のもようをかきましょう。(50点)






円と球 7

コンパスで長さ比べ

16


目指せ75点!



名まえ

1 次の直線の長さをくらべ、長い順に答えましょう。(各25点)

①



答え： **イ** → **ウ** → **ア**

②



答え： **ウ** → **イ** → **ア**

2 コンパスを使って、次のもようをかきましょう。(50点)

