




円と球 7

コンパスで長さ比べ

16

目指せ75点!



名まえ

1 次の直線の長さをくらべ、長いじゆんに答えましょう。(各25点)

①

ア



イ



ウ



答え：



②

ア



イ




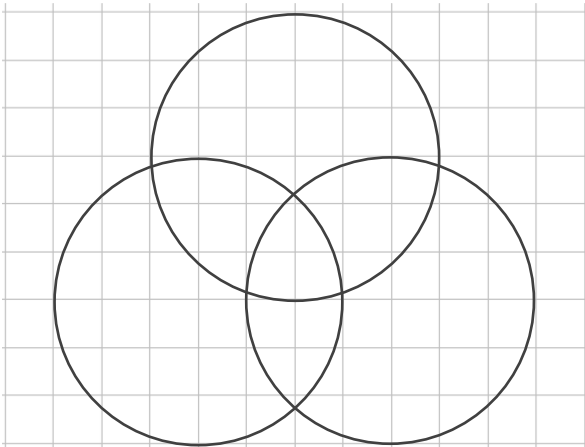
ウ



答え：



2 コンパスを使って、次のもようをかきましょう。(50点)



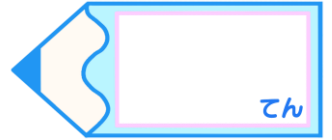


円と球 7

コンパスで長さ比べ

16


目指せ75点!



名まえ

1 次の直線の長さをくらべ、長いじゆんに答えましょう。(各25点)

①



答え： **イ** → **ウ** → **ア**

②



答え： **ウ** → **イ** → **ア**

2 コンパスを使って、次のもようをかきましょう。(50点)

