



# 三角形と角 3

● コンパスを使った  
二等辺三角形のかき方


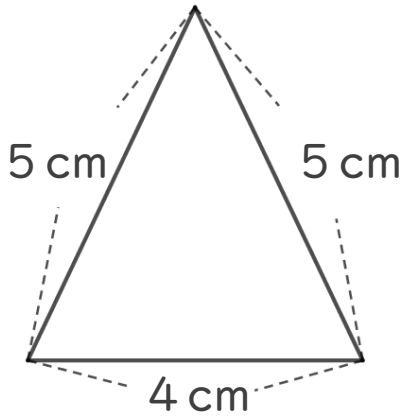


めざせ80点!



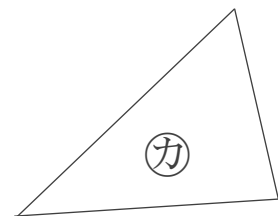
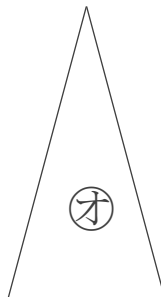
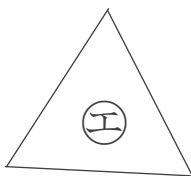
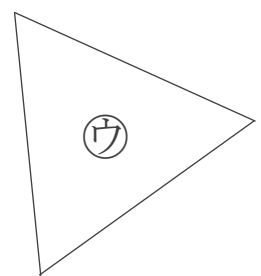
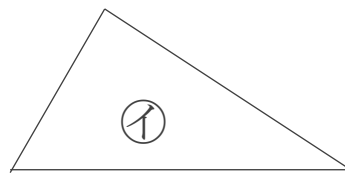
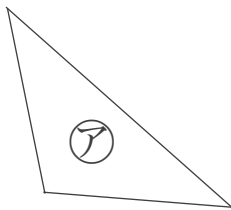
名まえ \_\_\_\_\_

1 次の二等辺三角形をかきましょう。(60点)



2 下の図から、正三角形と二等辺三角形をえらびましょう。

(各20点)



答え: 正三角形...

二等辺三角形...




# 三角形と角 3

● コンパスを使った  
二等辺三角形のかき方

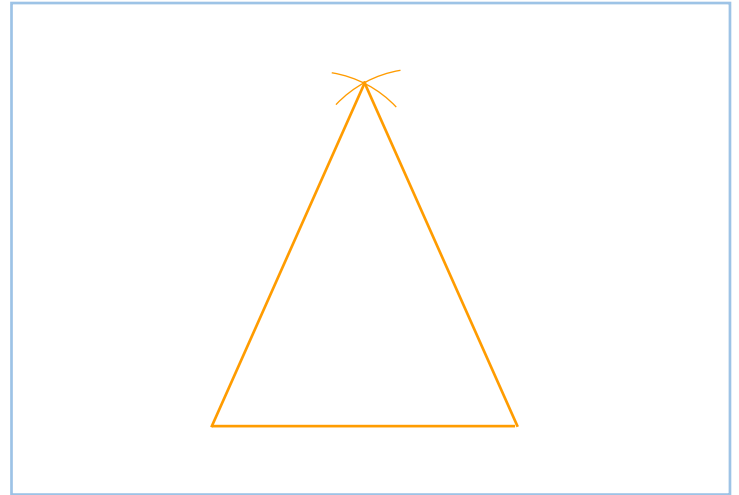
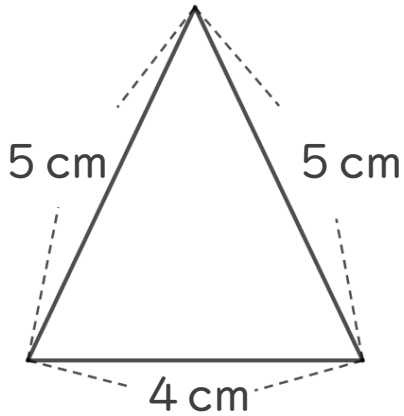


めざせ80点!



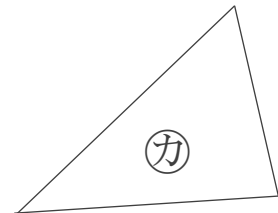
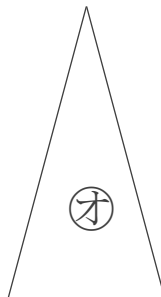
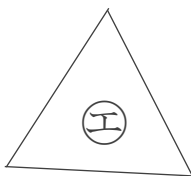
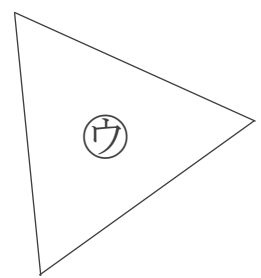
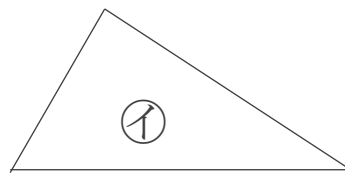
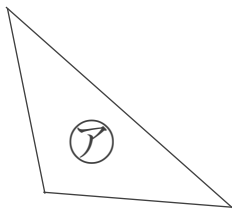
名まえ \_\_\_\_\_

1 次の二等辺三角形をかきましょう。(60点)



2 下の図から、正三角形と二等辺三角形をえらびましょう。

(各20点)



答え: 正三角形... **ウ, エ**

二等辺三角形... **ア, オ**