



三角形と角 9

◎ 三角定規の角

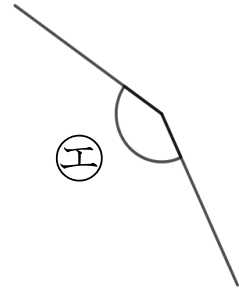
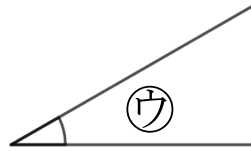
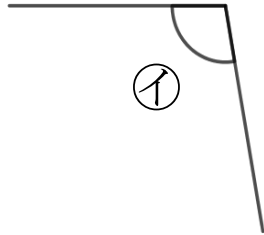
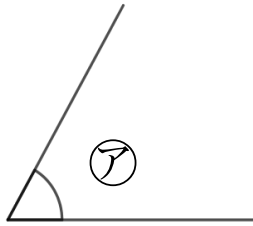
16

めざせ75点!



名まえ _____

1 次の図で、次の角を見つけて、㉠～㉡で答えましょう。(各25点)



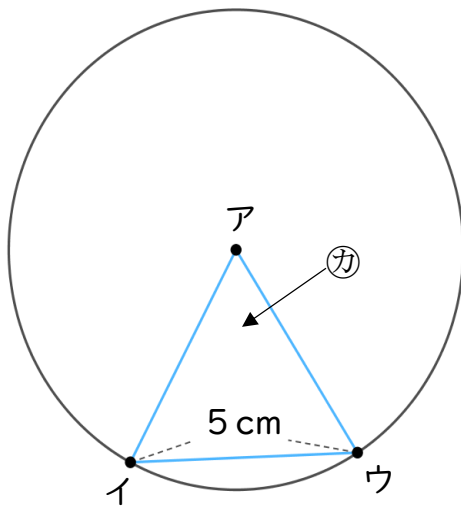
① いちばん大きい角

答え： _____

② いちばん小さい角

答え： _____

2 アの点を中心とした半径5 cmの円のまわりに2つの点を決めて、次の図のような三角形をかきました。(各25点)



① アイの辺の長さは何cmですか。

答え： _____

② カは何という三角形ですか。

答え： _____



三角形と角 9

◎ 三角定規の角

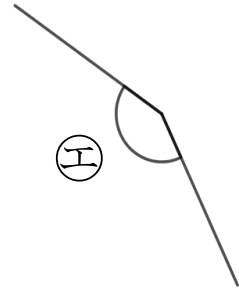
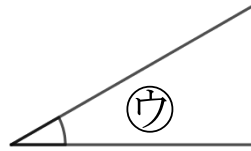
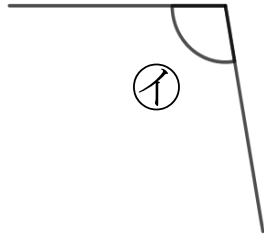
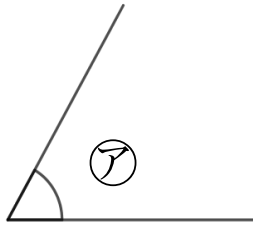
16

めざせ75点!



名まえ _____

1 次の図で、次の角を見つけて、㉠～㉤で答えましょう。(各25点)



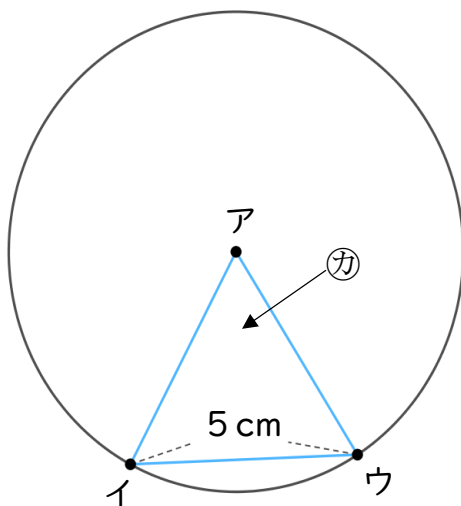
① いちばん大きい角

答え： **㉤**

② いちばん小さい角

答え： **㉠**

2 アの点を中心とした半径5 cmの円のまわりに2つの点を決めて、次の図のような三角形をかきました。(各25点)



① アイの辺の長さは何cmですか。

答え： **5 cm**

② カは何という三角形ですか。

答え： **正三角形**