



# 三角形と角 9

16

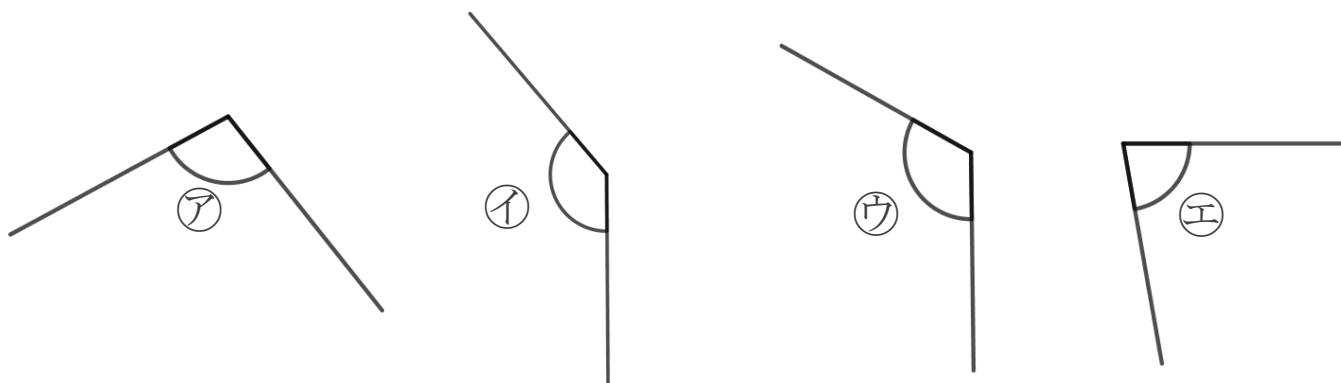
めざせ100点!



◎ 三角定規の角

名まえ \_\_\_\_\_

1 次の角を見つけて、㉠～㉢で答えましょう。(各25点)



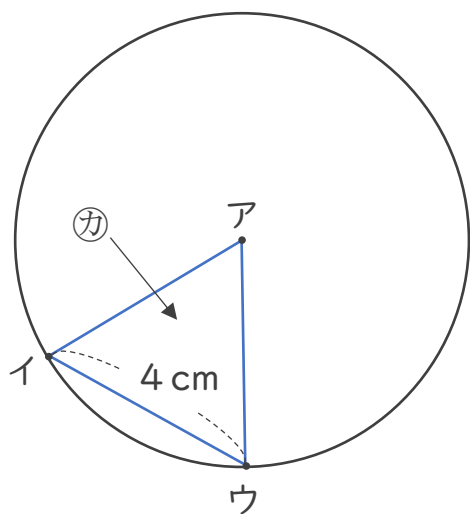
① いちばん大きい角

答え： \_\_\_\_\_

② いちばん小さい角

答え： \_\_\_\_\_

2 アの点を中心とした半径4cmの円のまわりに2つの点を決めて、次の図のような三角形をかきました。(各25点)



① アイの辺の長さは何cmですか。

答え： \_\_\_\_\_

② カは何という三角形ですか。

答え： \_\_\_\_\_



# 三角形と角 9

16

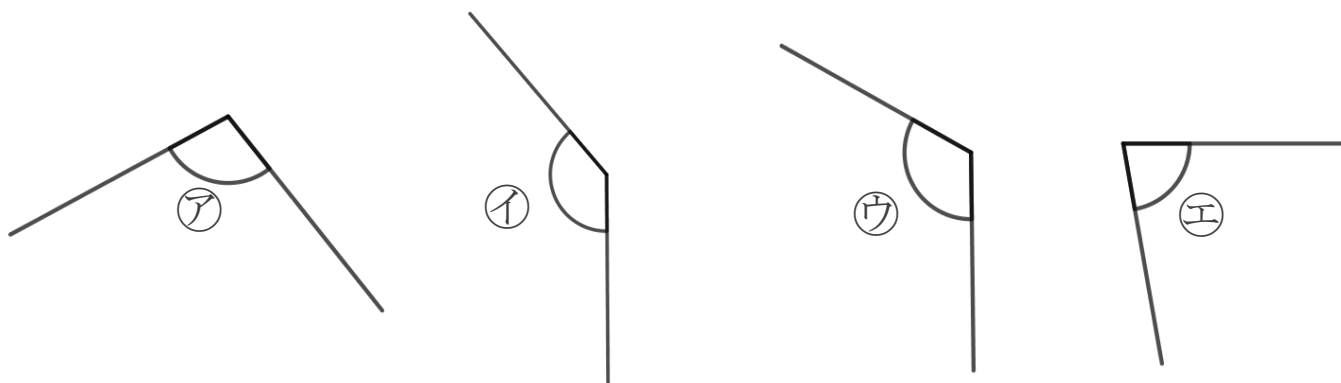
めざせ100点!



◎ 三角定規の角

名まえ \_\_\_\_\_

1 次の角を見つけて、㉠～㉢で答えましょう。(各25点)



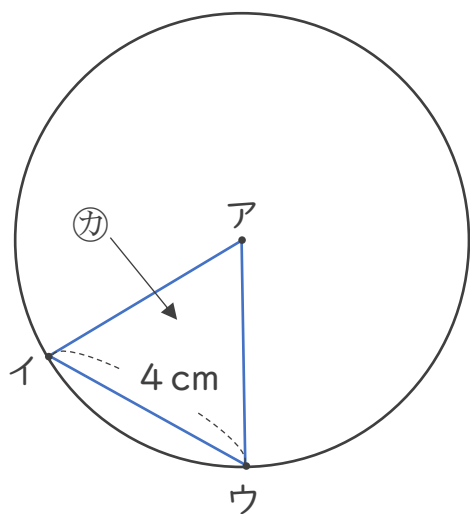
① いちばん大きい角

答え： ㉡

② いちばん小さい角

答え： ㉣

2 アの点を中心とした半径4cmの円のまわりに2つの点を決めて、次の図のような三角形をかきました。(各25点)



① アイの辺の長さは何cmですか。

答え： 4 cm

② カは何という三角形ですか。

答え： 正三角形

