



三角形と角 5

◎ 二等辺三角形や
正三角形の中の等しい角

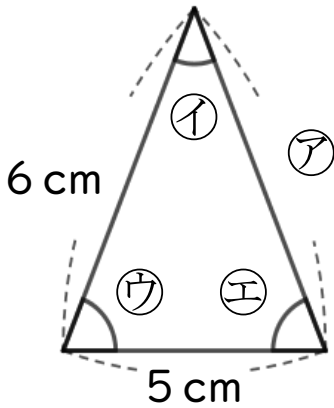
16

めざせ70点!



名まえ

1 次の図は、二等辺三角形です。(各35点)




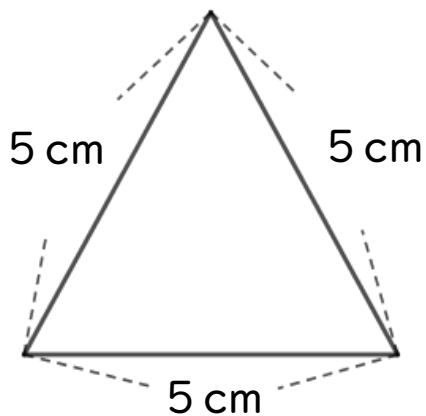
① アの辺の長さは何cmですか。

答え：

② エの角と大きさが等しい角は、どの角ですか。

答え：

2 次の正三角形をかきましょう。(各30点)






三角形と角 5

◎ 二等辺三角形や
正三角形の中の等しい角

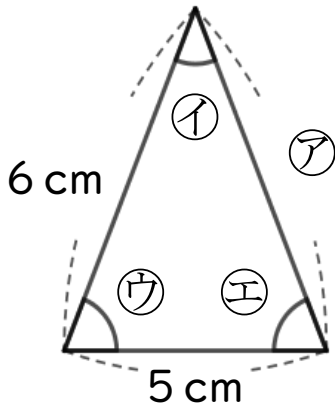
16

めざせ70点!



名まえ

1 次の図は、二等辺三角形です。(各35点)



① アの辺の長さは何cmですか。

答え： 6 cm

② エの角と大きさが等しい角は、どの角ですか。

答え： ウ

2 次の正三角形をかきましょう。(各30点)

