




三角形と角 8

● 円と三角形の関係

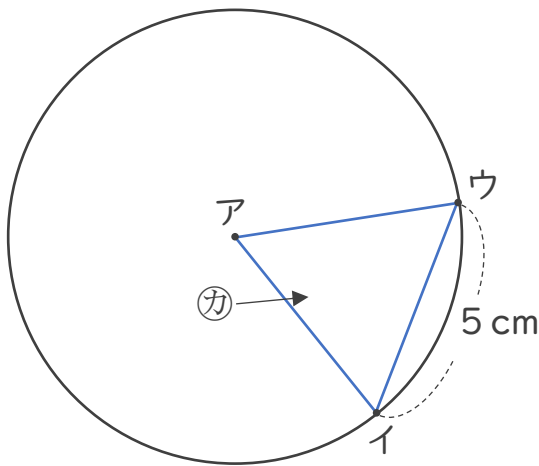
16

めざせ100点!



名まえ _____

1 アの点を中心とした半径5 cmの円のまわりに2つの点を決めて、次の図のような三角形をかきました。(各25点)



① アイの辺の長さは何cmですか。

答え： _____



② カは何という三角形ですか。

答え： _____

2 円の中に次の三角形をかきましょう。(各25点)

① 二等辺三角形

② 正三角形






三角形と角 8

● 円と三角形の関係

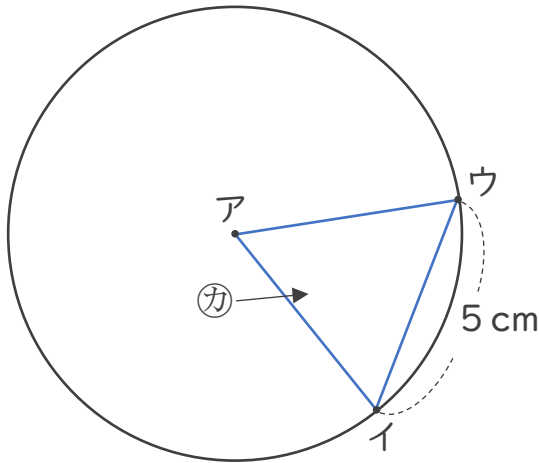
16

めざせ100点!



名まえ _____

1 アの点を中心とした半径5 cmの円のまわりに2つの点を決めて、次の図のような三角形をかきました。(各25点)



① アイの辺の長さは何cmですか。

答え： 5 cm

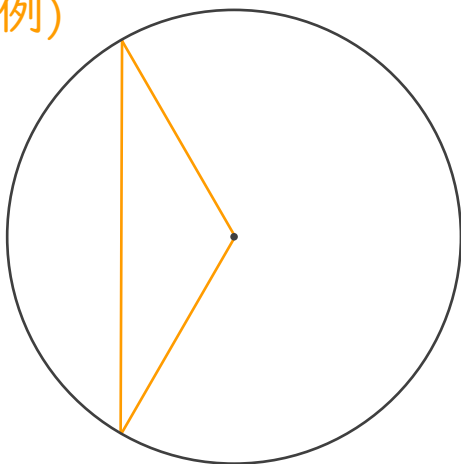
② カは何という三角形ですか。

答え： 正三角形

2 円の中に次の三角形をかきましょう。(各25点)

① 二等辺三角形

(例)



② 正三角形

(例)

