




分数 5

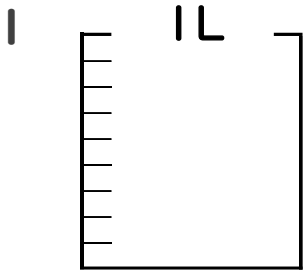
● 分数の水のかさの色ぬり

16

目指せ90点!

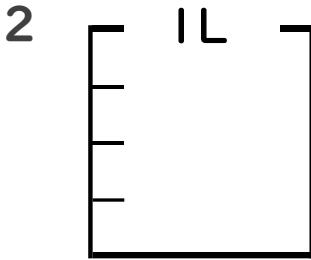


名まえ _____



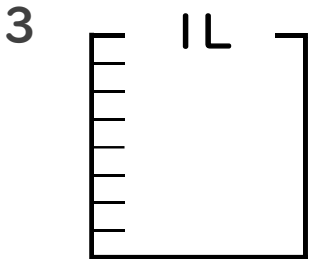
① $\frac{1}{9}$ Lの 5 こ分だけ色をぬりましょう。(各10点)

② 色をぬったところのかさは何Lですか。 _____ L



① $\frac{1}{4}$ Lの 2 こ分だけ色をぬりましょう。(各10点)

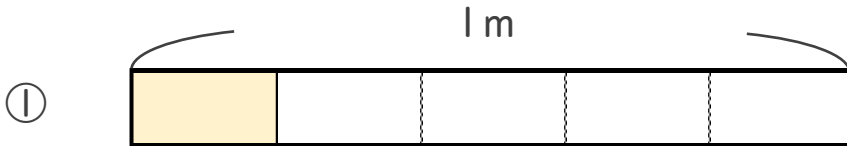
② 色をぬったところのかさは何Lですか。 _____ L



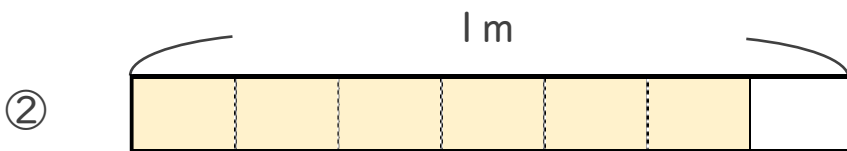
① $\frac{1}{8}$ Lの 4 こ分だけ色をぬりましょう。(各10点)

② 色をぬったところのかさは何Lですか。 _____ L

4 色をぬったところの長さは、何mでしょう。(各20点)



こたえ： _____ m



こたえ： _____ m





分数 5

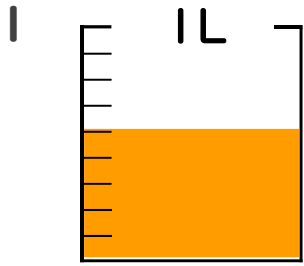
● 分数の水のかさの色ぬり

16

目指せ90点!



名まえ _____



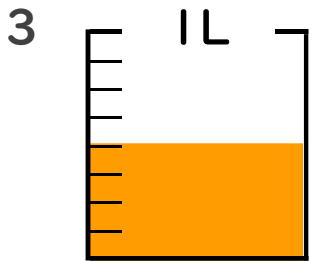
① $\frac{1}{9}$ Lの 5 部分だけ色をぬりましょう。(各10点)

② 色をぬったところのかさは何Lですか。 $\frac{5}{9}$ L



① $\frac{1}{4}$ Lの 2 部分だけ色をぬりましょう。(各10点)

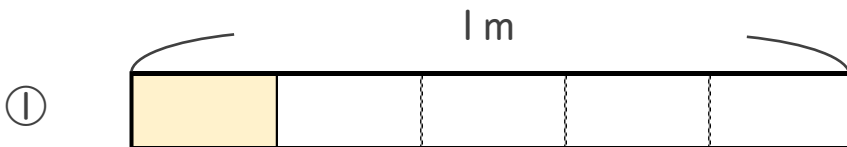
② 色をぬったところのかさは何Lですか。 $\frac{2}{4}$ L



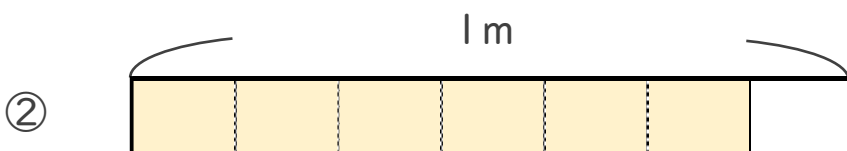
① $\frac{1}{8}$ Lの 4 部分だけ色をぬりましょう。(各10点)

② 色をぬったところのかさは何Lですか。 $\frac{4}{8}$ L

4 色をぬったところの長さは、何mでしょう。(各20点)



こたえ： $\frac{1}{5}$ m



こたえ： $\frac{6}{7}$ m

