



分数 4

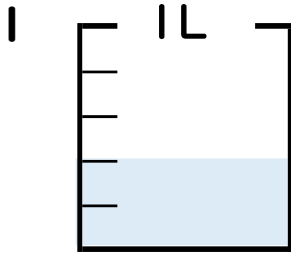
分数の水のかさの読み取り



目指せ80点!

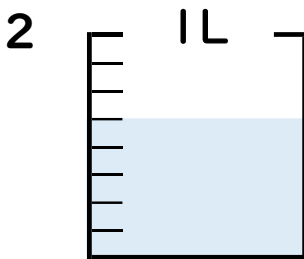


名まえ



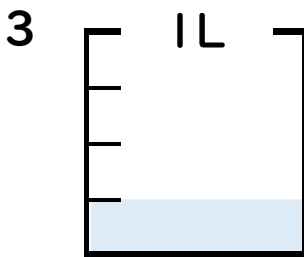
① 図の水のかさは1メモリの何分ですか? 分

② 水のかさは、何^{リットル}Lですか? (各5点) L



① 図の水のかさは1メモリの何分ですか? 分

② 水のかさは、何^{リットル}Lですか? (各5点) L

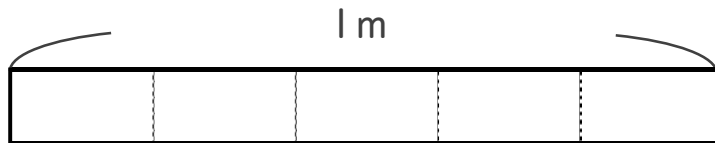


① 図の水のかさは1メモリの何分ですか? 分

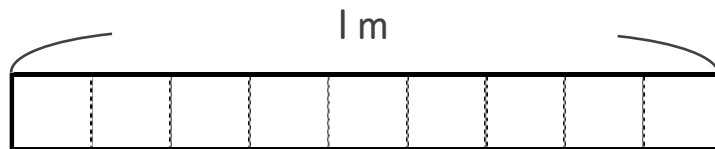
② 水のかさは、何^{リットル}Lですか? (各5点) L

4 次の長さの分だけ色をぬりましょう。 (各20点)

① $\frac{4}{5}$



② $\frac{5}{9}$





分数 4

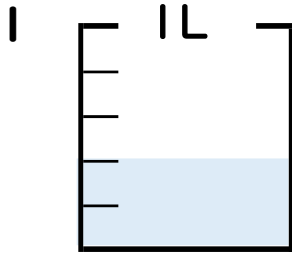
● 分数の水のかさの読み取り



目指せ80点!

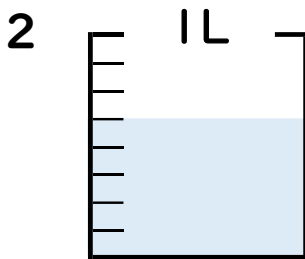


名まえ _____



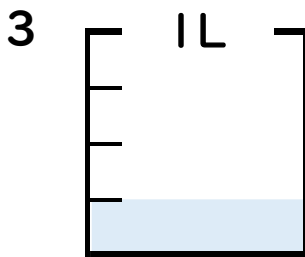
① 図の水のかさは1メモリの何こ分ですか? 2 共分

② 水のかさは、何^{リットル}Lですか? (各5点) $\frac{2}{5}$ L



① 図の水のかさは1メモリの何こ分ですか? 5 共分

② 水のかさは、何^{リットル}Lですか? (各5点) $\frac{5}{8}$ L



① 図の水のかさは1メモリの何こ分ですか? 1 共分

② 水のかさは、何^{リットル}Lですか? (各5点) $\frac{1}{4}$ L

4 次の長さの分だけ色をぬりましょう。(各20点)

① $\frac{4}{5}$



② $\frac{5}{9}$

