



分数 3

● 分数の長さの色ぬり

16

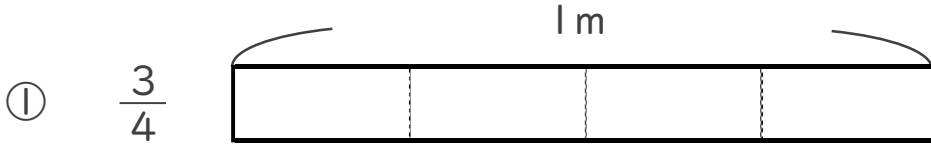
目指せ80点!



名まえ _____

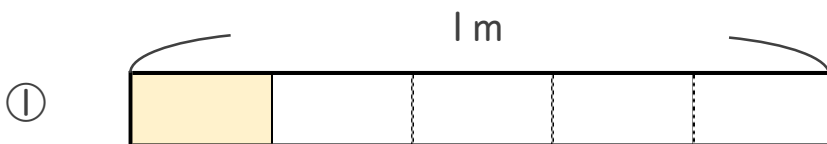
1 次の長さの分だけ色をぬりましょう。

(各20点)

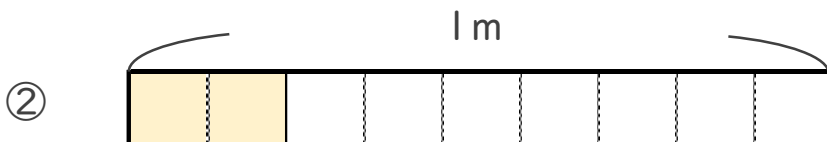


2 色をぬったところの長さは、何mでしょう。

(各20点)



こたえ： _____ m



こたえ： _____ m




分数 3

● 分数の長さの色ぬり

16

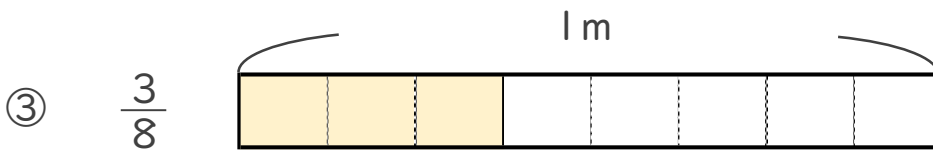
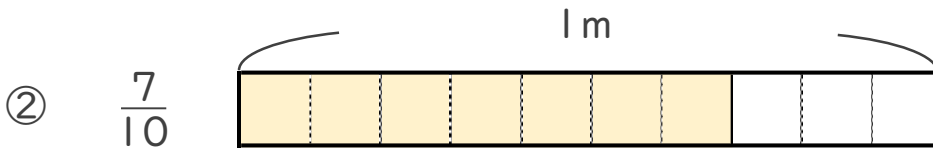
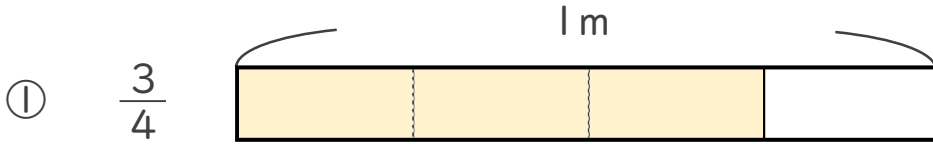
目指せ80点!



名まえ _____

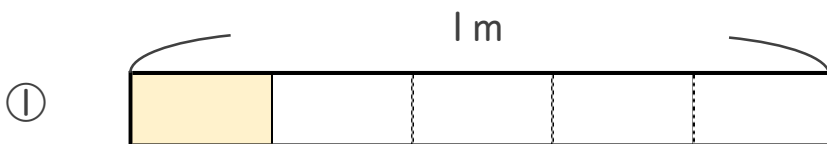
1 次の長さの分だけ色をぬりましょう。

(各20点)

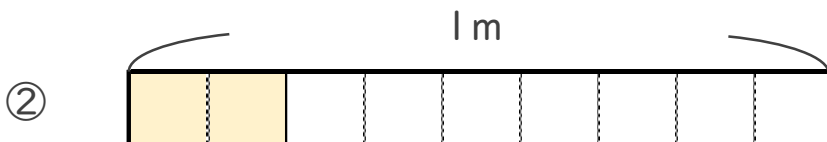


2 色をぬったところの長さは、何mでしょう。

(各20点)



こたえ： $\frac{1}{5}$ m



こたえ： $\frac{2}{9}$ m

