



分数 2

● 分数の長さの読み取り

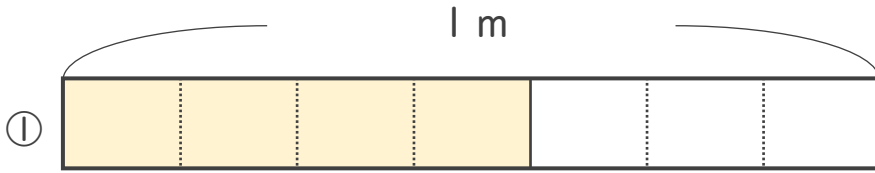
16

めざせ80点!



名まえ _____

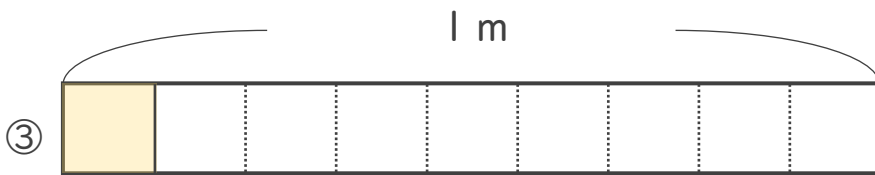
・ 色をぬったところの長さは、何^{いろ}mでしよう。^{なが} (各^{なん}20点)



こたえ： _____ m



こたえ： _____ m



こたえ： _____ m



こたえ： _____ m



こたえ： _____ m





分数 2

● 分数の長さの読み取り

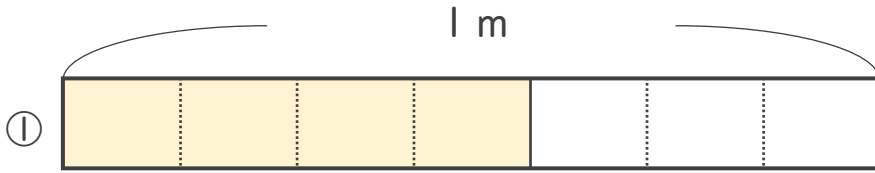
16

めざせ80点!



名まえ _____

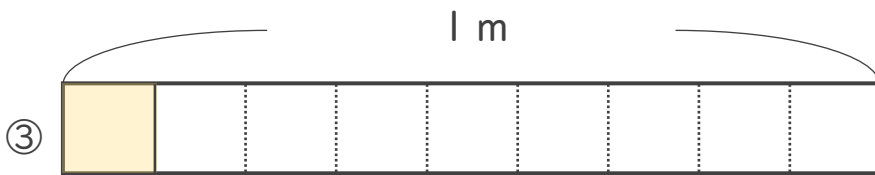
・ 色をぬったところの長さは、何^いmでしよう。^{なが} (各^{なん}20点)



こたえ： $\frac{4}{7}$ m



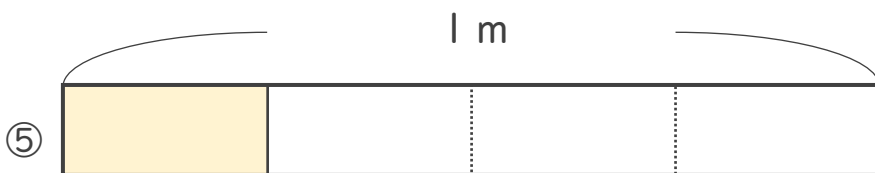
こたえ： $\frac{7}{8}$ m



こたえ： $\frac{1}{9}$ m



こたえ： $\frac{5}{6}$ m



こたえ： $\frac{1}{4}$ m

