

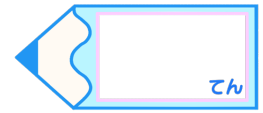


分数 2

● 分数の長さの読み取り

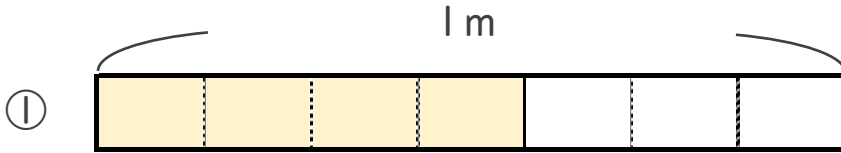


目指せ80点!

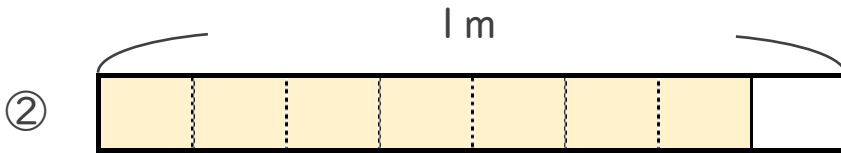


名まえ

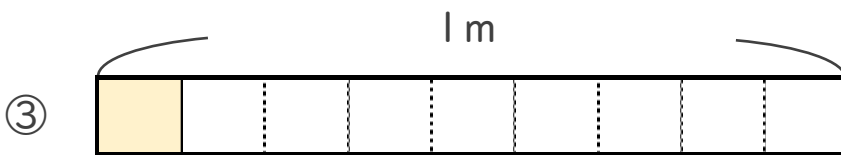
・ 色をぬったところの長さは、何mでしょう。(各20点)



こたえ： _____ m



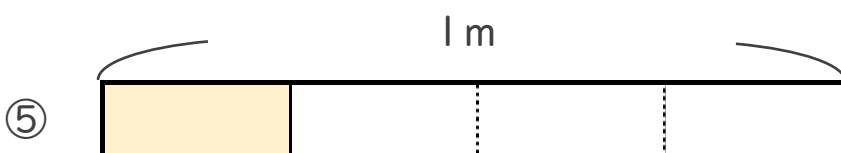
こたえ： _____ m



こたえ： _____ m



こたえ： _____ m



こたえ： _____ m

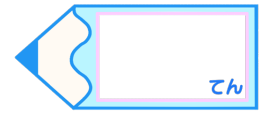


分数 2

● 分数の長さの読み取り

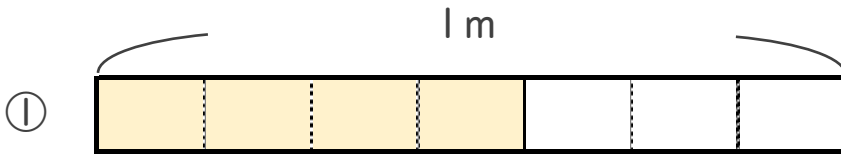
16

目指せ80点!

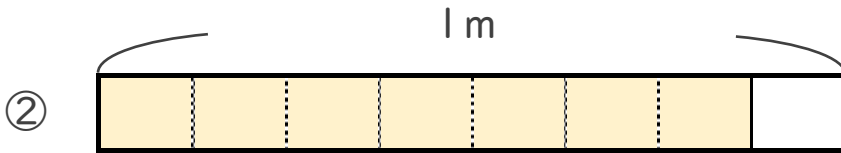


名まえ

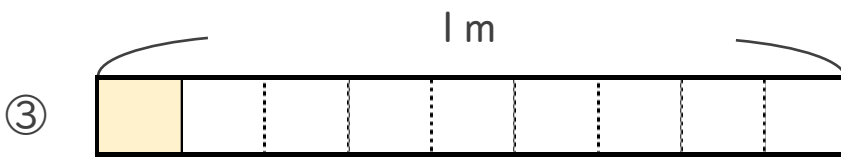
・ 色をぬったところの長さは、何mでしょう。(各20点)



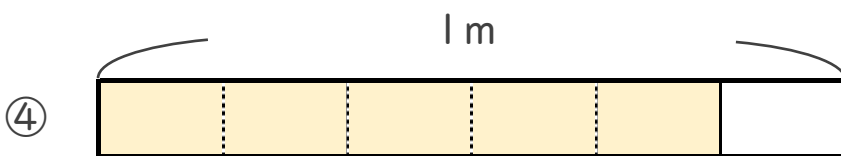
こたえ： $\frac{4}{7}$ m



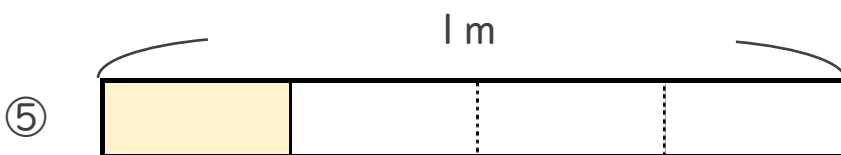
こたえ： $\frac{7}{8}$ m



こたえ： $\frac{1}{9}$ m



こたえ： $\frac{5}{6}$ m



こたえ： $\frac{1}{4}$ m