




円と球 4

● 半径の長さから円をかく

16

目指せ100点!



名まえ _____

・コンパスを使って、次の円をかきましょう。

① 半径が5cmの円 (50点)

•

② 半径が2cm5mmの円 (50点)

•

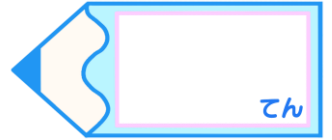


円と球 4

● 半径の長さから円をかく

16

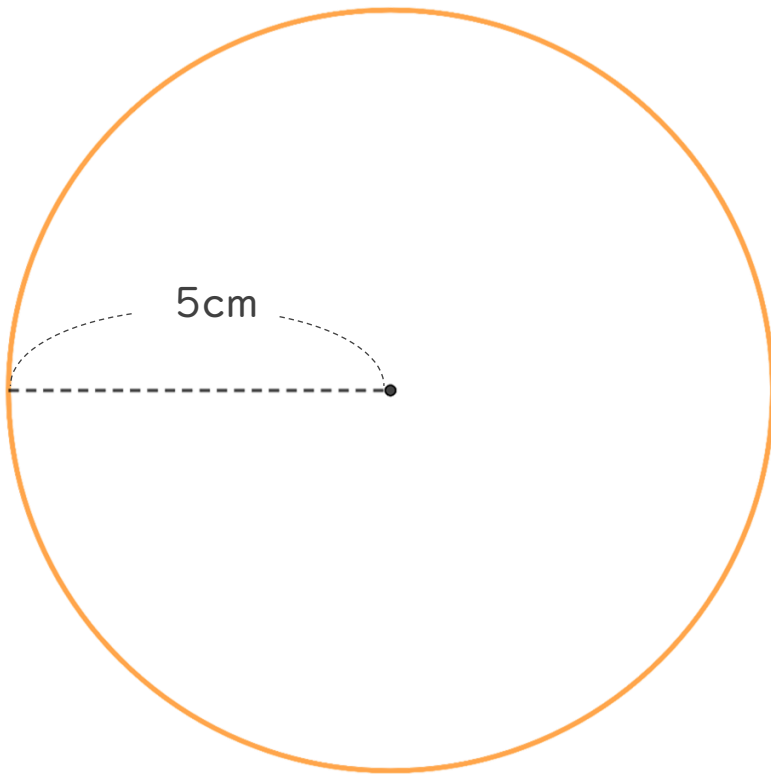
目指せ100点!



名まえ

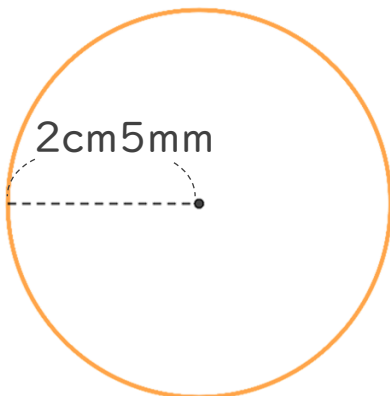
・コンパスを使って、次の円をかきましょう。

① 半径が5cmの円 (50点)



かいた円の直径が
10cmになっているか
チェックしよう!

② 半径が2cm5mmの円 (50点)



かいた円の直径が
5cmになっているか
チェックしよう!

