


小数の意味と表し方

● 小数で表す1cmより短い長さ

16

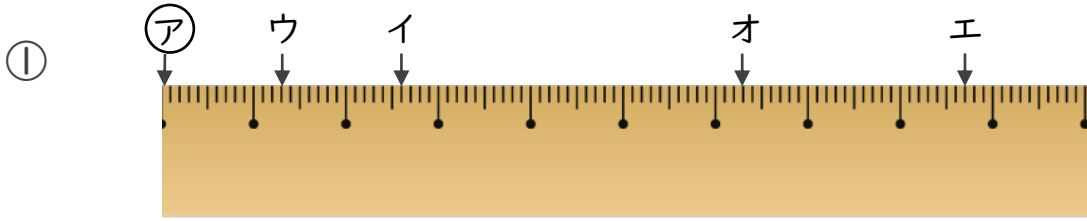
目指せ80点!



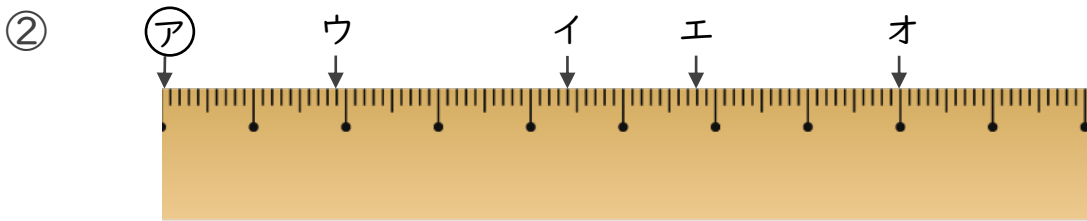
てん

名まえ

1 ㉗からイ、ウ、エ、オまでの長さは、それぞれ何cmですか。(各10点)



答え ㉗からイ ㉗からウ
 ㉗からエ ㉗からオ



答え ㉗からイ ㉗からウ
 ㉗からエ ㉗からオ

2 次のかさは何Lでしょうか。小数で答えましょう。(各10点)

① 0.1Lの8こ分

答え _____

② 1Lと、0.1Lの9こ分


答え _____

③ 5Lと、0.1Lの8こ分

答え _____

④ 0.1Lの7こ分

答え _____




小数の意味と表し方7

● 小数で表す1cmより短い長さ

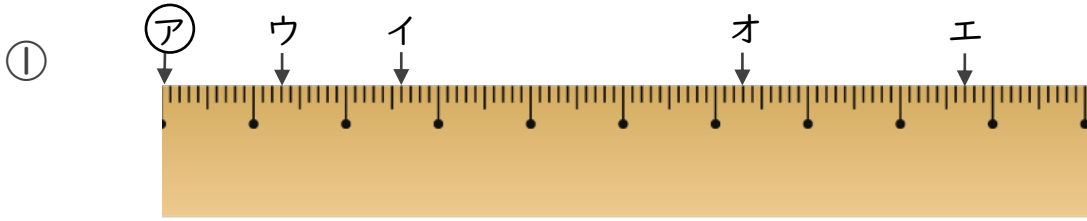
16

目指せ80点!

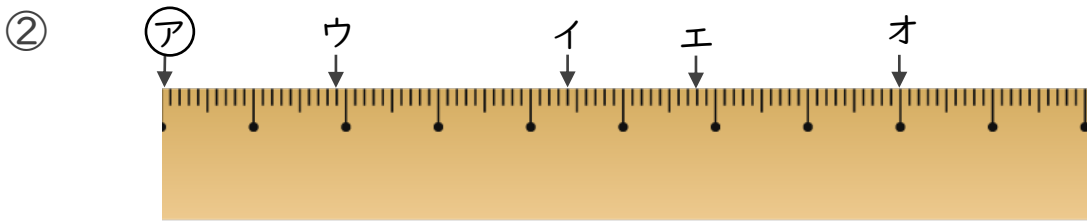


名まえ

1 ㉞からイ、ウ、エ、オまでの長さは、それぞれ何cmですか。(各10点)



答え ㉞からイ **2.6 cm** ㉞からウ **1.3 cm**
 ㉞からエ **8.7 cm** ㉞からオ **6.3 cm**



答え ㉞からイ **4.4 cm** ㉞からウ **1.9 cm**
 ㉞からエ **5.8 cm** ㉞からオ **8 cm**

2 次のかさは何Lでしょうか。小数で答えましょう。(各10点)

① 0.1Lの8こ分

答え **0.8 L**

② 1Lと、0.1Lの9こ分

答え **1.9 L**

③ 5Lと、0.1Lの8こ分

答え **5.8 L**

④ 0.1Lの7こ分

答え **0.7 L**