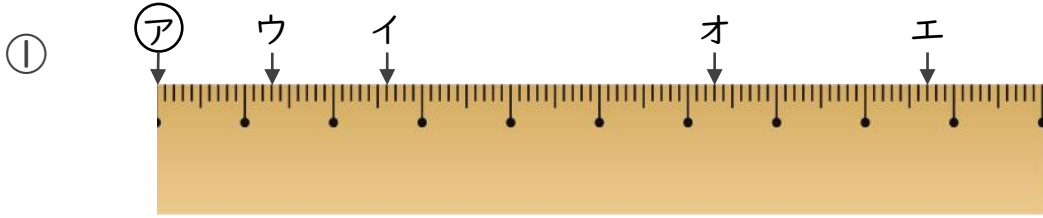




1 ㉠からイ、ウ、エ、オまでの長さは、それぞれ何cmですか。

(各10点)

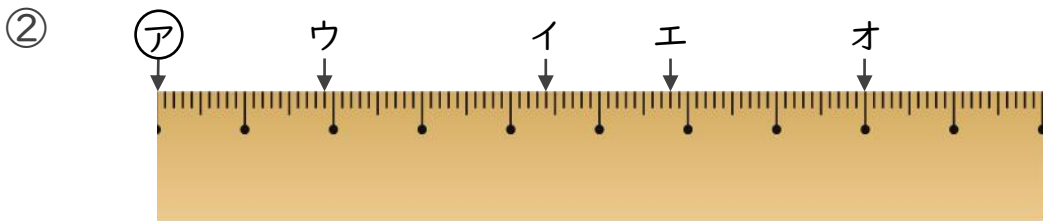


答え ㉠からイ

㉠からウ

㉠からエ

㉠からオ



答え ㉠からイ

㉠からウ

㉠からエ

㉠からオ

2 次のかさは何Lでしょうか。小数で答えましょう。(各5点)

① 0.1Lの8こ分

答え _____

③ 5Lと、0.1Lの8こ分

答え _____

② 1Lと、0.1Lの9こ分

答え _____

④ 0.1Lの7こ分

答え _____





小数の意味と表し方7

① 小数で表す1cmより短い長さ

16

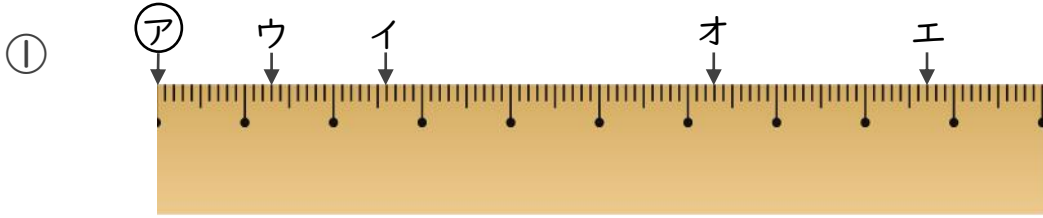
目指せ80点!



名まえ _____

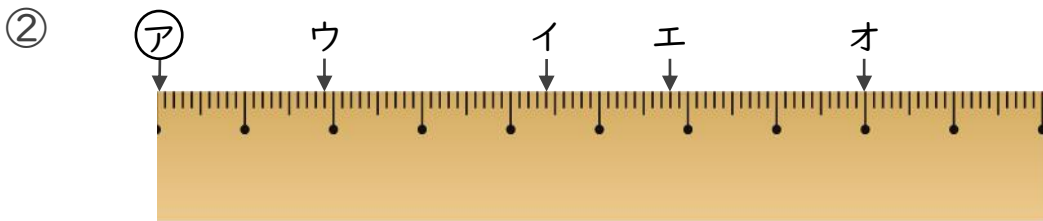
1 ㊦からイ、ウ、エ、オまでの長さは、それぞれ何cmですか。

(各10点)



答え ㊦からイ **2.6 cm** ㊦からウ **1.3 cm**

㊦からエ **8.7 cm** ㊦からオ **6.3 cm**



答え ㊦からイ **4.4 cm** ㊦からウ **1.9 cm**

㊦からエ **5.8 cm** ㊦からオ **8 cm**

2 次のかさは何Lでしょうか。小数で答えましょう。(各5点)

① 0.1Lの8こ分

答え **0.8 L**

② 1Lと、0.1Lの9こ分

答え **1.9 L**

③ 5Lと、0.1Lの8こ分

答え **5.8 L**

④ 0.1Lの7こ分

答え **0.7 L**