



小数の意味と表し方II

● 小数の位置を数直線へ書きこむ



目指せ80点!



名まえ _____

1 次の数を表すメモリに↑を書きましょう。(各10点)

① 1.7

② 0.6

③ 0.4



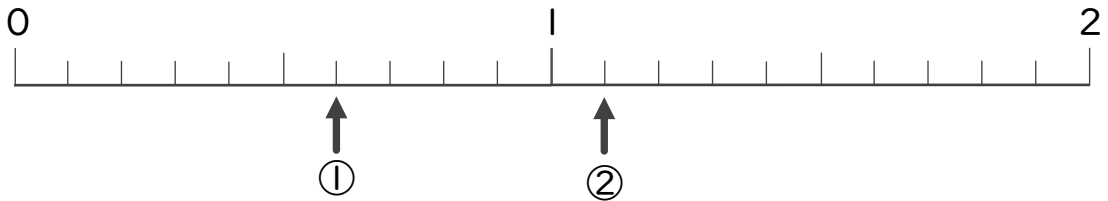
④ 1.1

⑤ 0.7

⑥ 0.3

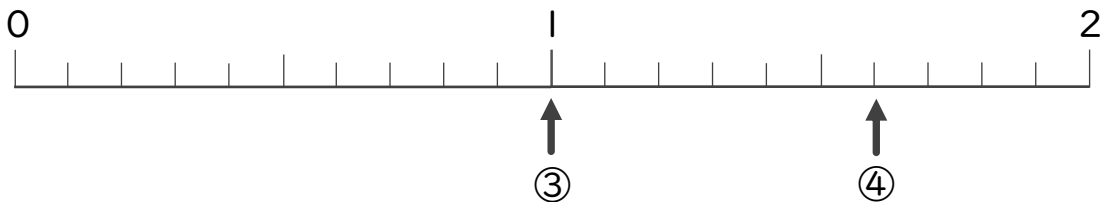


2 下の数直線を見て↑のメモリが表す数を書きましょう。(各10点)



① _____

② _____



③ _____

④ _____



小数の意味と表し方II

● 小数の位置を数直線へ書きこむ

16

目指せ80点!



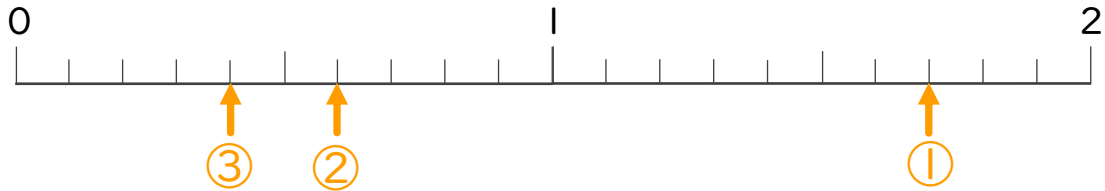
名まえ _____

1 次の数を表すメモリに↑を書きましょう。(各10点)

① 1.7

② 0.6

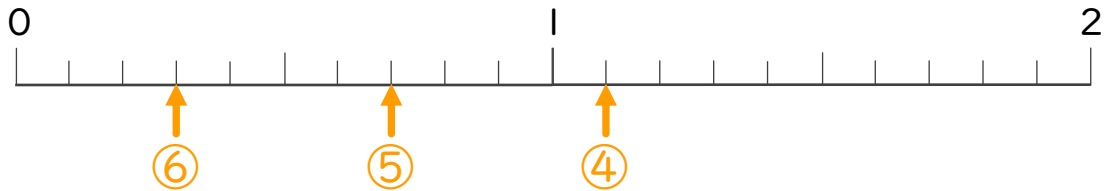
③ 0.4



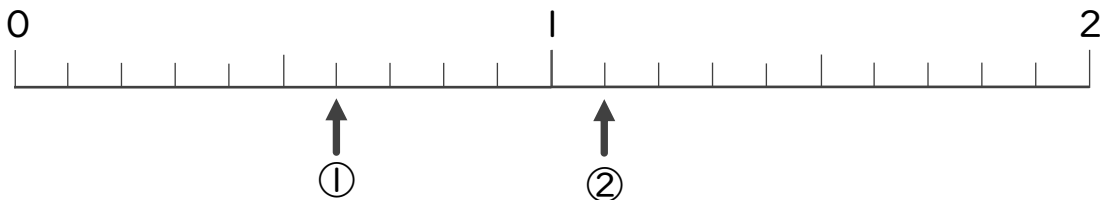
④ 1.1

⑤ 0.7

⑥ 0.3

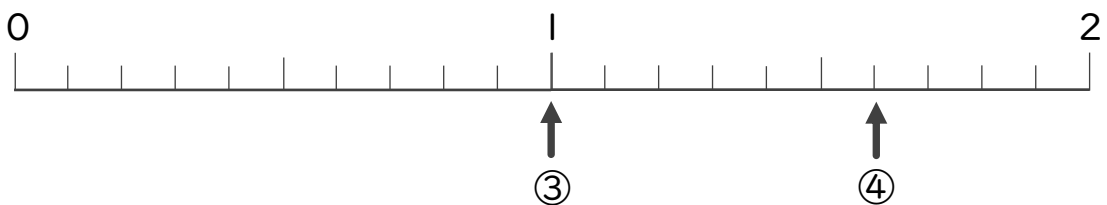


2 下の数直線を見て↑のメモリが表す数を書きましょう。(各10点)



① 0.6

② 1.1



③ 1

④ 1.6