




小数の意味と表し方 10

● 数直線の小数の読みとり

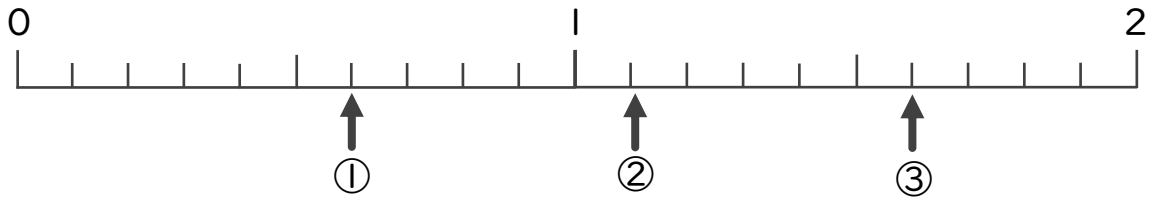
16

目指せ80点!

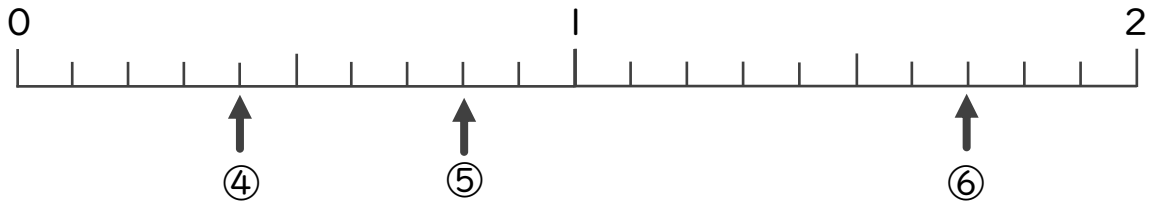


名まえ

1 下の数直線を見て ↑ のめもりが表す数を書きましょう。(各10点)



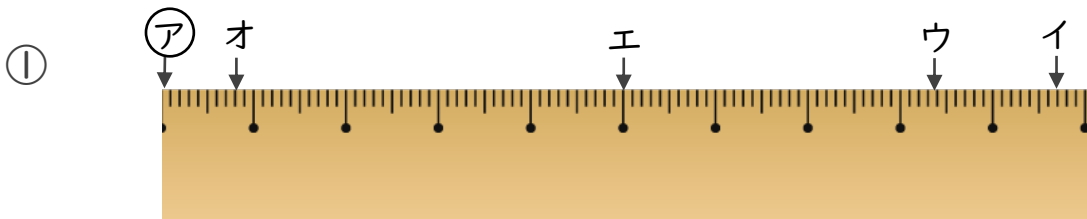
① _____ ② _____ ③ _____



④ _____ ⑤ _____ ⑥ _____

2 ㉠からイ、ウ、エ、オまでの長さは、それぞれ何cmですか。

(各10点)



答え ㉠からイ ㉠からウ
 ㉠からエ ㉠からオ




小数の意味と表し方 10

数直線の小数の読みとり

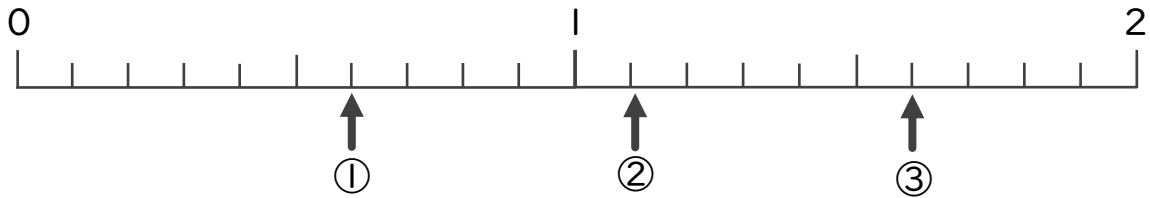
16

目指せ80点!

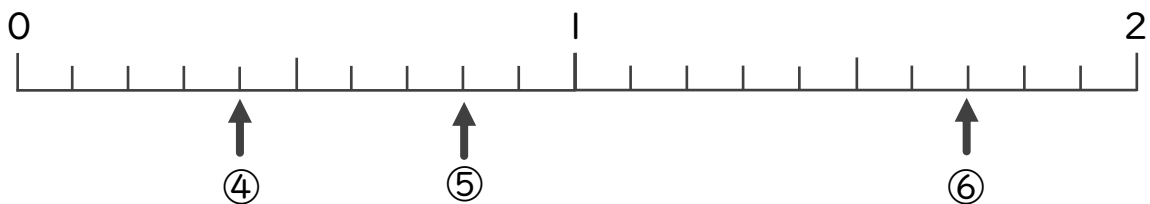


名まえ

1 下の数直線を見て ↑ のめもりが表す数を書きましょう。(各10点)



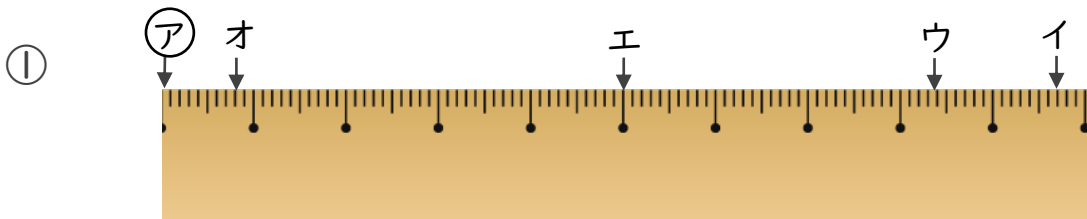
① 0.6 ② 1.1 ③ 1.6



④ 0.4 ⑤ 0.8 ⑥ 1.7

2 ㉠からイ、ウ、エ、オまでの長さは、それぞれ何cmですか。

(各10点)



答え ㉠からイ 9.7 cm ㉠からウ 8.4 cm
 ㉠からエ 5 cm ㉠からオ 0.8 cm