




# 時こくと時間の もとめかた 2

# 16

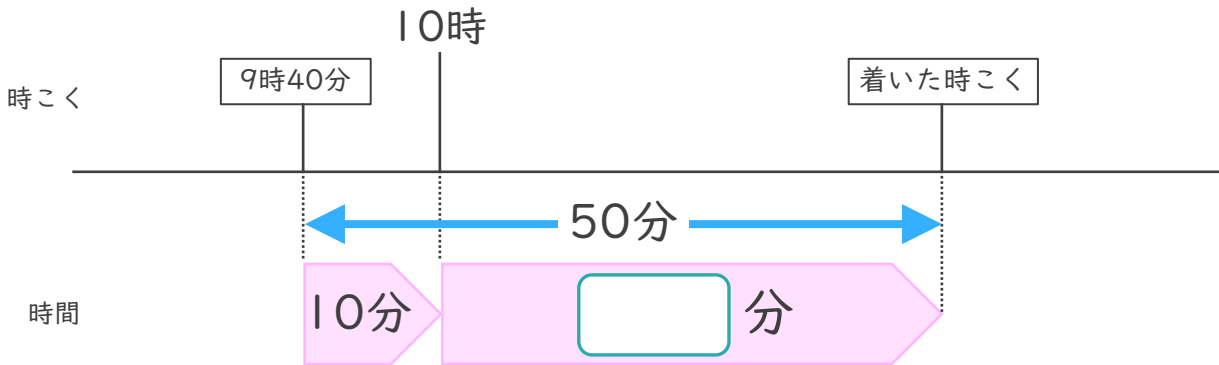
● 時こくをもとめる (数直線)

めざせ75点!



名まえ \_\_\_\_\_

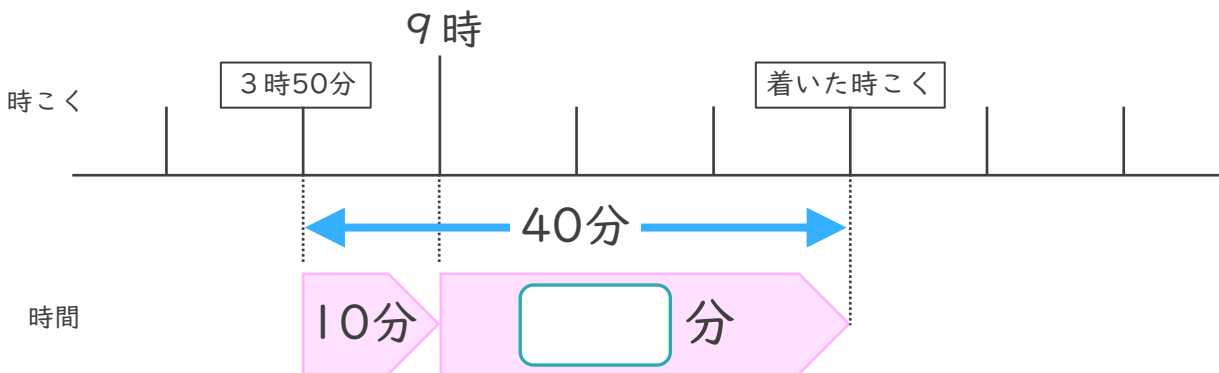
1 家を午前7時40分に出て、50分歩くと学校に着きました。



- ①  にあてはまる数を書きましょう。(25点)
- ② 公園に着いた時こくは何時何分ですか。(25点)

答え ( )

2 家を午前8時50分に出て、40分歩くと病院に着きました。



- ①  にあてはまる数を書きましょう。(25点)
- ② 病院に着いた時こくは何時何分ですか。(25点)

答え ( )




# 時こくと時間の もとめかた 2

# 16

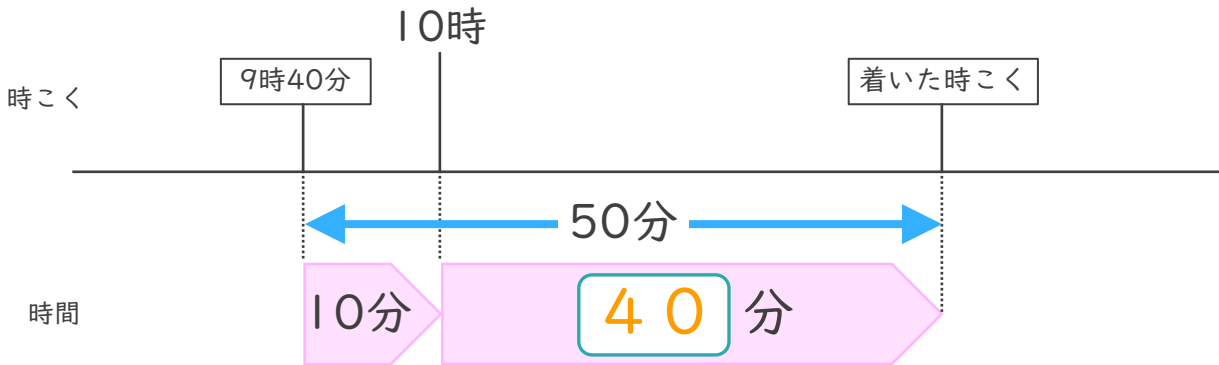
● 時こくをもとめる (数直線)

めざせ75点!



名まえ \_\_\_\_\_

1 家を午前7時40分に出て、50分歩くと学校に着きました。

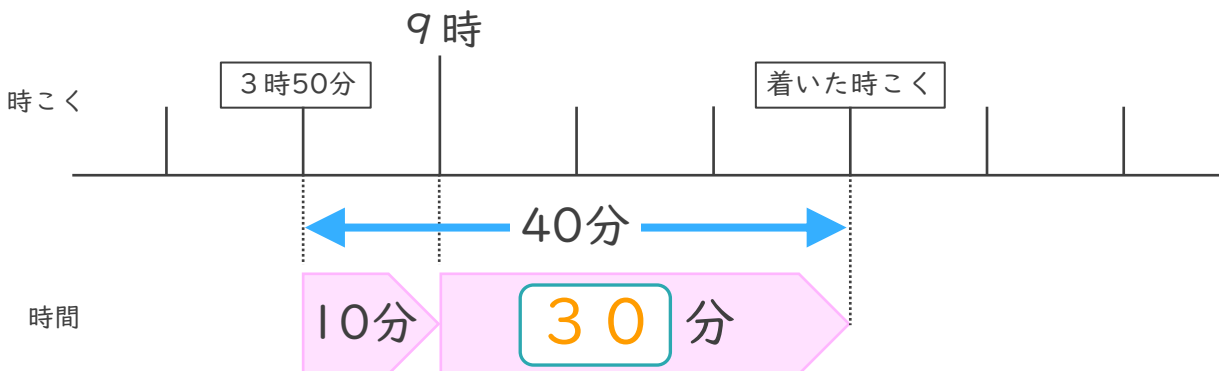


①  にあてはまる数を書きましょう。(25点)

② 公園に着いた時こくは何時何分ですか。(25点)

答え ( 10時40分 )

2 家を午前8時50分に出て、40分歩くと病院に着きました。



①  にあてはまる数を書きましょう。(25点)

② 病院に着いた時こくは何時何分ですか。(25点)

答え ( 9時30分 )

